













THEORITICAL TEST MULTIPLE CHOICE QUESTIONS FOR DRIVING LICENCE/PERMIT

S.#	Question	Shape	Options	Correct Option
1.	دیئے گئے تکون نشان کا مطلب ہے		a. انتباہی نشان b. ممنوعہ نشان c. نشاندہی نشان d. ہیمتی نشان	a
2.	دیئے گئے نشان کا مطلب ہے		a. ڈھلوان b. چڑھائی c. زیادہ ڈھلوان d. زیادہ چڑھائی	d
3.	دیئے گئے نشان کا مطلب ہے		a. زیادہ ڈھلوان b. زمین کا کٹاؤ c. ڈھلوان d. زیادہ چڑھائی	a
4.	دیئے گئے نشان کا مطلب ہے		a. تنگ گزرگاہ b. روڈبائیں طرف سے تنگ ہے c. روڈ دائیں طرف سے تنگ ہے d. رفتار کم کریں	a
5.	دیئے گئے نشان کا مطلب ہے		a. پہاڑی پتھروں کا گرنا b. خطرناک پہاڑی راستہ c. اچانک پہاڑوں کا کٹاؤ d. زیادہ ڈھلوان	a







6.	دیئے گئے نشان کا مطلب ہے		<p>a. شدید خطرہ b. شدید ہوا کا دباؤ c. پہاڑی پتھروں کا گرنا d. خطرناک پہاڑی راستہ</p>	b
7.	دیئے گئے نشان کا مطلب ہے		<p>a. سرنگ b. پل Culvert c. محرابی پل d. پل Overflowing</p>	c
8.	دیئے گئے نشان کا مطلب ہے		<p>a. خطرناک پہاڑی راستہ b. پیدل چلنے والوں کو دیکھیں c. بچوں کو دیکھیں d. مزدور کام کر رہے ہیں</p>	d
9.	دیئے گئے نشان کا مطلب ہے		<p>a. سڑک غیر ہموار ہے b. مکان c. سرنگ d. گاؤں</p>	c
10.	دیئے گئے نشان کا مطلب ہے		<p>a. آگے حادثہ ہے b. داخلہ ممنوع c. زکیے d. خطرہ</p>	d
11.	دیئے گئے نشان کا مطلب ہے		<p>a. بائیں یا دائیں مڑ سکتے ہیں b. داخلہ ممنوع c. دو طرفہ ٹریفک d. چھوٹی سڑک کا قطع کرنا</p>	d







12.	دیئے گئے نشان کا مطلب ہے		<ul style="list-style-type: none"> a. غیر ہموار سڑک b. Hump پل c. سڑنگ d. سڑک کے کنارے 	a
13.	دیئے گئے نشان کا مطلب ہے		<ul style="list-style-type: none"> a. جانوروں کی گزرگاہ ممنوع b. مویشیوں کی گزرگاہ c. Farm House d. جانوروں کی ہا تھ ریڑھی 	b
14.	دیئے گئے نشان کا مطلب ہے		<ul style="list-style-type: none"> a. چوڑا پل b. پل دونوں اطراف سے چوڑا ہے c. تنگ پل d. Hump پل 	c
15.	دیئے گئے نشان کا مطلب ہے		<ul style="list-style-type: none"> a. ریلوے کراسنگ سے گزرنا منع ہے b. پیدل گزرگاہ c. بغیر پھاٹک ریلوے کراسنگ d. ریلوے کراسنگ پھاٹک کے ساتھ 	d
16.	دیئے گئے نشان کا مطلب ہے		<ul style="list-style-type: none"> a. ریلوے کراسنگ بغیر گیٹ کے b. داخلہ ممنوع c. ریلوے کراسنگ سے گزرنا ممنوع ہے d. ریلوے کراسنگ Manned 	a
17.	دیئے گئے نشان کا مطلب ہے		<ul style="list-style-type: none"> a. سائیکل کا گزرنا منع ہے b. سائیکل سوار c. سائیکل کے گزرنے کی جگہ d. سائیکل کا داخلہ ممنوع 	b


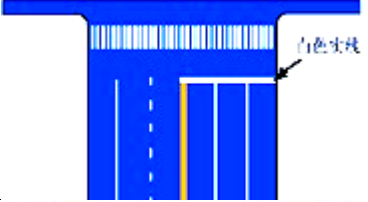




18.	دیئے گئے نشان کا مطلب ہے		<p>a. بائیں طرف سے آ سکتے ہیں</p> <p>b. دو طرفہ سڑک آگے ہے</p> <p>c. دائیں طرف سے آ سکتے ہیں</p> <p>d. کسی طرف سے آنا منع ہے۔</p>	b
19.	دیئے گئے نشان کا مطلب ہے		<p>a. دائیں طرف سے موڑ سکتے ہیں</p> <p>b. دائیں لین تبدیل کرنا منع ہے</p> <p>c. دائیں ”U“ ٹرن لینا منع ہے</p> <p>d. دائیں مڑنا منع ہے</p>	d
20.	دیئے گئے نشان کا مطلب ہے		<p>a. یو ٹرن لینا منع ہے</p> <p>b. بائیں مڑنا منع ہے</p> <p>c. یو ٹرن لے سکتے ہیں</p> <p>d. بائیں طرف مڑ سکتے ہیں</p>	a
21.	دیئے گئے نشان کا مطلب ہے		<p>a. سڑک استعمال نہیں کر سکتے</p> <p>b. اوور ٹیکنگ منع ہے</p> <p>c. اوور ٹیکنگ کی پابندی اٹھا لی گئی ہے</p> <p>d. اوور ٹیکنگ کی اجازت ہے</p>	b
22.	دیئے گئے نشان کا مطلب ہے		<p>a. بائیں طرف مڑ سکتے ہیں</p> <p>b. بائیں مڑنا منع ہے</p> <p>c. بائیں یو ٹرن کی اجازت ہے</p> <p>d. بائیں طرف سے لین کی تبدیلی منع ہے</p>	b
23.	دیئے گئے نشان کا مطلب ہے		<p>a. ہارن کی پابندی اٹھالی گئی ہے</p> <p>b. ہارن کی اجازت ہے</p> <p>c. ریڈیو کا سننا ممنوع ہے</p> <p>d. ہارن کا استعمال منع ہے</p>	d

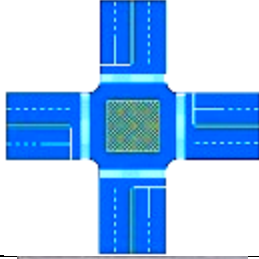




24.	دیئے گئے نشان کا مطلب ہے		<p>a. چوڑائی کی حد 3 میٹر ہے</p> <p>b. لمبائی کی حد 3 میٹر ہے</p> <p>c. چوڑائی کی حد اٹھالی گئی ہے</p> <p>d. پُل کی چوڑائی محدود ہے۔</p>	a
25.	دیئے گئے نشان کا مطلب ہے		<p>a. گاڑیوں کا فاصلہ محدود ہے</p> <p>b. اونچائی 3.5 میٹر تک محدود ہے</p> <p>c. چوڑائی کی حد 3-5 میٹر ہے</p> <p>d. لمبائی کی پابندی اٹھالی گئی ہے</p>	b
26.	دیئے گئے نشان کا مطلب ہے		<p>a. وزن محدود ہے</p> <p>b. سڑک کا نمبر 40 ہے</p> <p>c. زیادہ حیرفتار 40 کلو میٹر ہے</p> <p>d. حیرفتار 40 کلو میٹر کی پابندی اٹھا لی گئی ہے</p>	c
27.	دیئے گئے نشان کا مطلب ہے		<p>a. وزن محدود ہے</p> <p>b. سڑک کا نمبر 40 ہے</p> <p>c. زیادہ حیرفتار 40 کلو میٹر ہے</p> <p>d. حیرفتار 40 کلو میٹر کی پابندی اٹھا لی گئی ہے</p>	d
28.	دیئے گئے نشان کا مطلب ہے		<p>a. سیدھا جا سکتے ہیں</p> <p>b. سیدھا جانا منع ہے</p> <p>c. سیدھا تیزی سے جائیں</p> <p>d. آگے یکطرفہ روڈ ہے</p>	b
29.	دیئے گئے نشان کا مطلب ہے		<p>a. ایکسل کا وزن محدود ہے</p> <p>b. لمبائی کی حد 6 میٹر ہے</p> <p>c. 6 ٹن سے زائد وزن کی گاڑی کا داخلہ منع ہے</p> <p>d. چوڑائی محدود ہے</p>	c

30.	دیئے گئے نشان کا مطلب ہے		<p>a. بڑی بسوں کا داخلہ منع ہے</p> <p>b. SHTV کا داخلہ منع ہے</p> <p>c. موٹر ویکل کا داخلہ منع ہے</p> <p>d. LTV کا داخلہ منع ہے</p>	c
31.	دیئے گئے نشان کا مطلب ہے		<p>a. بڑی بسوں کا داخلہ منع ہے</p> <p>b. موٹر کار کا داخلہ منع ہے</p> <p>c. مال بردار گاڑیوں کا داخلہ منع ہے</p> <p>d. LTV کا داخلہ منع ہے</p>	c
32.	دیئے گئے نشان کا مطلب ہے		<p>a. سیدھا جائیں</p> <p>b. داخل</p> <p>c. ایک طرف جائیں</p> <p>d. رُک جائیں</p>	a
33.	دیئے گئے نشان کا مطلب ہے		<p>a. دائیں مڑ جائیں</p> <p>b. اپنے دائیں طرف مڑ جائیں</p> <p>c. بائیں طرف چلیں</p> <p>d. بائیں مڑ جائیں</p>	d
34.	دیئے گئے نشان کا مطلب ہے		<p>a. دائیں مڑ جائیں</p> <p>b. ایک طرف جائیں</p> <p>c. دائیں طرف جائیں</p> <p>d. اپنے بائیں طرف چلائیں</p>	a
35.	دیئے گئے نشان کا مطلب ہے		<p>a. سیدھا جائیں اور دائیں مڑ جائیں</p> <p>b. سیدھا جائیں اور بائیں مڑ جائیں</p> <p>c. لین کے ساتھ چلیں</p> <p>d. آگے سے بائیں مڑ جائیں</p>	b

36.	دیئے گئے نشان کا مطلب یہ ہے کہ تمام گاڑیوں کو اجازت ہے کہ		<ul style="list-style-type: none"> a. سیدھا جائیں اور بائیں مڑ جائیں b. لین کے ساتھ چلیں c. بائیں طرف رہیں d. آگے بائیں طرف مڑ جائیں 	c
37.	دیئے گئے نشان کا مطلب یہ ہے کہ تمام گاڑیاں		<ul style="list-style-type: none"> a. بائیں طرف سے موڑنا منع ہے b. دائیں طرف سے موڑنا منع ہے c. ”U“ ٹرن کسی بھی جانب سے لینا منع ہے d. داخلہ ممنوعہ ہے 	d
38.	دیئے گئے نشان کا مطلب یہ ہے کہ تمام گاڑیوں کو اجازت ہے کہ		<ul style="list-style-type: none"> a. دائیں طرف چلیں b. دائیں طرف رُک جائیں c. دائیں طرف موڑ جائیں d. بائیں سائیڈ پر چلیں 	a
39.	دیئے گئے نشان کا مطلب ہے		<ul style="list-style-type: none"> a. لین میں داخلہ منع ہے b. سیدھی لین c. یکطرفہ لین d. فاسٹ لین 	b
40.	دیئے گئے نشان میں یہ لین واضح کرتی ہے کہ		<ul style="list-style-type: none"> a. سیدھا جائیں اور بائیں مڑ جائیں b. مڑ جائیں اور بائیں مڑ جائیں c. بائیں مڑنا، دائیں مڑنا اور سیدھا جانا d. سیدھا جائیں اور دائیں مڑ جائیں 	c
41.	دیئے گئے نشان میں یہ لین واضح کرتی ہے کہ		<ul style="list-style-type: none"> a. سیدھا جائیں اور دائیں مڑ جائیں b. آگے سے دائیں جانب مڑ جائیں c. سیدھا جائیں اور بائیں جانب مڑ جائیں d. آگے سے بائیں جانب مڑ جائیں 	a

42.	دینے گئے نشان میں یہ لین واضح کرتی ہے کہ		<ul style="list-style-type: none"> a. طالب علموں کی گزرگاہ b. پیدل چلنے والوں کی گلی c. پیدل چلنے والوں کی گزرگاہ d. بچوں کی گزرگاہ 	c
43.	دینے گئے نشان کا مطلب ہے کہ		<ul style="list-style-type: none"> a. پارکنگ کی جگہ b. سروس ایریا c. پارکنگ کی ممانعت d. آگے روڈ بند ہے 	a
44.	دینے گئے نشان کا مطلب ہے		<ul style="list-style-type: none"> a. "T" شکل کا INTERSECTION b. آگے روڈ بند ہے c. آگے INTERSECTION ہے d. پارکنگ ایریا 	b
45.	دیا گیا نشان بچوں کی گزرگاہ کو واضح کرتا ہے		<ul style="list-style-type: none"> a. درست b. غلط c. مجھے معلوم نہیں d. ان میں سے کوئی بھی نہیں 	a
46.	دیا گیا نشان اس بات کو واضح کرتا ہے کہ تمام گاڑیاں لازمی دائیں طرف مڑیں		<ul style="list-style-type: none"> a. غلط b. درست c. ان میں سے کوئی بھی نہیں d. مجھے معلوم نہیں 	a
47.	درج ذیل تصویر میں سفید لائن واضح کرتی ہے کہ		<ul style="list-style-type: none"> a. گاڑیوں کے گزرگاہ کی یا روڈ لائن b. لین کی تبدیلی ممنوع کرتی ہے c. دو طرفہ ٹریفک کی درمیانی لائن d. لین کو حصوں میں کرنے والی لائن 	d

48.	دی گئی تصویر میں پہلی لائن واضح کرتی ہے کہ		<p>a. کیڑج وے کو ایک ہی سمت میں تقسیم کرتی ہے</p> <p>b. روڈ کے کنارے رکو واضح کرتی ہے</p> <p>c. گاڑیوں کو اوورٹیکنگ کی اجازت دیتی ہے</p> <p>d. گاڑیوں کی اوورٹیکنگ اور کراسنگ کو ممنوع کرتی ہے</p>	d
49.	سفید پکی لائن جو کہ نشان سے واضح کی گئی ہے اس بات کی نشاندہی ہے کہ		<p>a. اسٹاپ لائن</p> <p>b. راستہ دینے کی لائن</p> <p>c. آپسٹہ کرنے اور راستہ دینے کی لائن</p> <p>d. ممنوعہ علاقہ کی نشاندہی کرنے والی لائن</p>	a
50.	تصویر میں سڑک پر موجود نشاندہی ظاہر کرتی ہے کہ		<p>a. سڑک کی درمیانی لائن</p> <p>b. لین کو تقسیم کرنے والی لائن</p> <p>c. گزرنے کی لائن</p> <p>d. اگر مخالف سمت سے گاڑی نہ آ رہی ہو تو اوورٹیکنگ کی اجازت ہے</p>	d
51.	تصویر میں سڑک پر موجود نشاندہی ظاہر کرتی ہے کہ		<p>a. سڑک کی درمیانی لائن</p> <p>b. لین کو تقسیم کرنے والی لائن</p> <p>c. اوورٹیکنگ ممنوع</p> <p>d. اوورٹیکنگ کی اجازت</p>	c
52.	تصویر میں سڑک پر موجود نشاندہی ظاہر کرتی ہے کہ		<p>a. درمیانی لائن، اوورٹیکنگ ممنوع</p> <p>b. لین کو تقسیم کرنے والی لائن</p> <p>c. گزرنے کی لائن</p> <p>d. اگر مخالف سمت سے گاڑی نہ آ رہی ہو تو اوورٹیکنگ کی اجازت ہے</p>	a
53.	تصویر میں سڑک پر موجود نشاندہی ظاہر کرتی ہے کہ		<p>a. سڑک کی درمیانی لائن</p> <p>b. درمیانی لائن</p> <p>c. گزرنے کی لائن</p> <p>d. اگر مخالف سمت سے گاڑی نہ آ رہی ہو تو اوورٹیکنگ کی اجازت ہے</p>	b

54.	تصویر کے درمیان میں جو پیلا جنکشن باکس ہے وہ اس بات کو ظاہر کرتا ہے کہ عارضی طور پر نہ رکنے کی اجازت ہے		<ul style="list-style-type: none"> a. درست b. ان میں سے کوئی بھی نہیں c. غلط d. مجھے معلوم نہیں 	a
55.	تصویر میں ٹریفک پولیس کے اشارے کا مطلب ہے کہ		<ul style="list-style-type: none"> a. آہستہ رکنے کا اشارہ b. رکنے کا اشارہ c. مڑنے کا اشارہ d. بغیر رکنے کے جانے کا اشارہ 	b
56.	تصویر میں ٹریفک پولیس کے اشارے کا مطلب ہے کہ پیچھے سے آنے والی ٹریفک رُک جائے		<ul style="list-style-type: none"> a. درست b. غلط c. مجھے معلوم نہیں d. ان میں سے کوئی بھی نہیں 	a
57.	اس نشان کا کیا مطلب ہے		<ul style="list-style-type: none"> a. ایک لائن b. موٹروے کا بیرونی راستہ 300 میٹر ہے c. تین لائن d. روڈ کے درمیان تین لائن 	b
58.	اس نشان کا کیا مطلب ہے		<ul style="list-style-type: none"> a. پُل b. آغاز موٹروے c. مصروف دو طرفہ سڑک d. اوپر میں سے کوئی نہیں 	b
59.	اس بات کو ظاہر کرتا ہے کہ Right of Way گول چکر میں موجود		<ul style="list-style-type: none"> a. کوئی جو دائیں جانب سے آ رہا ہو b. جو گول چکر میں پہلے سے موجود ہو c. دونوں (ا) اور (ب) d. ان میں سے کوئی نہیں 	c

60.	آپ اپنی گاڑی کے انجن سے رفتار کیسے کنٹرول کر سکتے ہیں	a. چھوٹے گیروں میں تبدیل کر کے b. پچھلا گیئر (ریورس گیئر) منتخب کر کے c. بڑے گیروں میں تبدیل کر کے d. نیوٹرل کر کے	a
61.	گاڑی کی ہمیشہ کیا چیز صاف رکھنی چاہیے	a. لائٹس b. ریفلکٹرز c. کھڑکیاں d. شیشے	d
62.	خدانخواستہ ایک حادثے میں ملوث ہونے کے بعد آپکی پہلی ذمہ داری کیا ہے	a. رُک جائیں b. بھاگ جائیں c. غصے میں آ جائیں d. اُوپر دینے گئے سب	a
63.	کونسی جگہ پر پارکنگ دوسروں کے دیکھنے کو ختم کر دیتی ہے	a. جنکشن پر b. موڑ پر یا پہاڑ کی چڑھائی پر c. زیبرا کراسنگ کے شروع پر d. اُوپر دینے گئے سب	d
64.	اپنی گاڑی کو قانونی طور پر دُرست حالت میں رکھنے کے لئے کن باتوں کو ملحوظ خاطر رکھنا چاہیے	a. بریکیں b. لائٹس c. ٹائر d. اُوپر دینے گئے تمام	d
65.	کب Air Bag حادثے کی صورت میں نہیں کُھلتا ؟	a. گاڑی کے ٹینک میں کم فیول b. بیٹری کمزور ہو c. ڈرائیور نے سیٹ بیلٹ نہ باندھا ہو d. ان میں سے کوئی نہیں	c
66.	پیلے بورڈ اس لئے ہوتے ہیں	a. تیز چلیں b. پارکنگ c. ایمرجنسی سے رُکیں d. ان میں سے کوئی نہیں	c
67.	حدرفتار آبادی والے علاقوں میں	a. 100 کلو میٹر b. 80 کلو میٹر c. 70 کلو میٹر d. 50 کلو میٹر	c
68.	موٹروے پر گاڑی کی حدرفتار	a. 100 کلو میٹر b. 80 کلو میٹر c. 70 کلو میٹر d. 120 کلو میٹر	d
69.	ڈبل اینڈیکٹیٹر اس لئے استعمال ہوتے ہیں کہ	a. ایمرجنسی b. ریس نہیں c. ریورس میں d. آمنے سامنے پارکنگ میں	a
70.	مسجد اور اسکول کے نزدیک حدرفتار	a. 40 کلو میٹر b. 80 کلو میٹر c. 70 کلو میٹر d. 50 کلو میٹر	a

71.	سیٹ بیلٹ باندھنا	a. لازمی ہے b. ضروری ہے c. فیشن ہے d. دکھاوا ہے	a
72.	دُھند کی صورت میں گاڑی کی کونسی لائٹس آن کرنا ضروری ہیں	a. ڈبل انڈیکٹر b. اگلی اور پچھلی فوگ لائٹس c. فل لائٹس d. اوپر دینے گئے سب	d
73.	اگر ٹریفک لائٹ سبز ہے اور آپ کو ٹریفک پولیس آفیسر رُکنے کا اشارہ دے تو آپ کیا کریں گے	a. ٹریفک سیگنل کا احترام کریں b. ٹریفک آفیسر کے اشارے کو مانیں c. پہلے ٹریفک آفیسر پھر ٹریفک سیگنل d. اگلی گاڑی جیسا کرے ویسا کریں	b
74.	آپ کے آگے ایک اسکول بس آپ کی لین میں رُک گئی ہے اور اُس کی سرخ لائٹس جل بُجھ رہی ہیں آپ کیا کریں گے	a. رُک جائیں جب تک سرخ لائٹس جل بُجھ رہی ہوں مل فی گھنٹہ کی رفتار کر لیں اور احتیاط سے گُزر 25جائیں b. رُکیے اور جب محسوس کریں کہ تمام بچے بس سے اُتر یا چڑھ چکے ہیں تو گُزر جائیں c. ان میں سے کوئی بھی نہیں	c
75.	آپ موٹروے کے ہارڈ شولڈر پر کب رُک سکتے ہیں	a. اگر آپ نے نقشہ دیکھنا ہو b. جب تھک جائیں اور آرام کرنا ہو c. اگر موبائل فون استعمال کرنا ہو d. ایمرجنسی یا گاڑی خراب ہونے کی صورت میں	d
76.	آپ روڈ جنکشن پر ہیں اور ایک معمولی چھوٹی سڑک پر مڑ رہے ہیں پیدل چلنے والے چھوٹی سڑک کو کراس کر رہے ہیں آپ کیا کریں گے	a. رُک جائیں اور پیدل چلنے والوں کو ہاتھ بلائیں b. بارن بجائیں تاکہ پیدل والوں کو آپکا پتہ چلے c. پیدل گُزرنے والوں کو راستہ دیں جو کہ پہلے سے گُزر رہے ہیں d. آپ چلے جائیں اور یہ کہ پیدل چلنے والے آپ کو راستہ دیں	c
77.	حادثہ ہوا ہے اور ڈرائیور صدمے میں ہے آپ کیا کریں گے	a. مدد کریں گئے اور اکیلا نہیں چھوڑیں گے b. پانی پینے کے لئے دیں گے c. اُن کو یقین دلانیں گے d. سیگریٹ پیش کریں گے	a
78.	آپ کو موٹروے پر کب رُکنا چاہیے	a. اگر نقشہ دیکھنا ہو b. جب تھک جائیں اور آرام درکار ہو c. پولیس آفیسر کے روکنے پر d. موبائل فون بجنے پر	c
79.	آپ دائیں طرف مڑنے کے لئے سڑک کے آخر پر کھڑے ہیں اور پارکنگ والی گاڑیوں کیوجہ سے آپ آگے دیکھ نہیں سکتے تو آپ کیا کریں گے	a. رُکیں، پھر آگے آہستہ چلیں اور احتیاط سے دیکھیں b. تیزی سے چلیں جب تک کہ آپ ٹریفک بلاک نہ دیکھیں c. پیدل چلنے والوں کا انتظار کریں جب تک ہو بتا نہ دیں کہ آپ محفوظ ہیں d. گاڑی کو تیزی سے موڑیں اور دوسرے جنکشن کو استعمال کریں	a
80.	ایک ڈرائیور اچانک آپ کے سامنے سائیڈ روڈ سے آجاتا ہے آپ کیا کریں گے	a. سخت بریک لگائیں گے b. اُسکی غلطی کو نظر انداز کر دیں گے، اچھے موڈ	b

		<p>c. میں رہیں گے اور قانون پر عمل پیرا رہیں گے ہیڈ ڈیپ کر کے اپنے غصے کا اظہار کریں گے لائٹ</p> <p>d. ہارن دیں گے کہ آپ غصے میں ہیں</p>	
81.	آپ اپنی گاڑی میں بچے کو لے کر جا رہے ہیں جو کہ تین سال سے کم ہے۔ ان میں کونسی جگہ بچے کے لئے محفوظ ہے	<p>a. بچوں کی سیٹ</p> <p>b. ایک بڑا جو بچے کو گود میں لے</p> <p>c. بڑوں کی سیٹ بیلٹ</p> <p>d. بڑوں کی بیلٹ</p>	a
82.	ایک بڑی گاڑی کو اوورٹیک کرنا چھوٹی گاڑی کی نسبت کیوں مشکل ہے	<p>a. کیونکہ اُس کے لمبائی زیادہ ہوتی ہے اور وقت لگتا ہے</p> <p>b. یہ اچانک خراب ہو جاتی ہیں</p> <p>c. ان کی بریکیں درست نہیں ہوتی</p> <p>d. یہ پہاڑ پر بہت سُست چڑھتی ہیں</p>	a
83.	آپ کی بیٹری کا پانی کم ہے آپ اُس کو کیسے پورا کریں گے	<p>a. بیٹری کا تیزاب</p> <p>b. نلکے کا پانی</p> <p>c. انجن کا ائل</p> <p>d. انجن کو ٹھنڈا کرنے والا پانی</p>	a
84.	دُھند میں ڈرائیونگ میں کونسی چیزیں درست ہیں۔	<p>a. ہیڈ لائٹس کا متواتر استعمال</p> <p>b. سینٹرل لائن کے نزدیک</p> <p>c. زیادہ وقت سفر میں صرف کریں</p> <p>d. آہستہ چلیں</p>	d
85.	آپ ایک بڑی گاڑی کو زیادہ فاصلے سے اوورٹیک کرنے جا رہے ہیں اور ایک گاڑی آپ کے آگے آ جاتی ہے آپ کیا کریں گے	<p>a. ہارن بجائیں</p> <p>b. مزید فاصلہ پیدا کریں</p> <p>c. ہیڈ لائٹس دیں</p> <p>d. اوورٹیک کرنا شروع کریں</p>	b
86.	RUMBLE DEVICE (رفتار کم کرنے کا آلہ) اس لئے بنایا جاتا ہے تاکہ	<p>a. سمت دینے کے لئے</p> <p>b. مویشیوں کے اچانک نکلنے کے لئے</p> <p>c. انتباہ برائے رُکاوت</p> <p>d. رفتار کم کرنے کی حوصلہ افزائی</p>	d
87.	آپ ایک بس کے پیچھے چل رہے ہیں اور بس اسٹاپ پر رُک جاتی ہے آپ کیا کریں گے	<p>a. بس کو ہارن دینے ہوئے تیزی سے گزر جائیں گے</p> <p>b. دھیان سے پیدل چلنے والوں کو دیکھیں گے</p> <p>c. بس کو راستہ دینے کے لئے تیار رہیں گے</p> <p>d. بس کے پیچھے احتیاط سے رُک جائیں گے</p>	b
88.	آپ چھوٹی سڑک سے بڑی سڑک پر گاڑی کب ریورس کر سکتے ہیں	<p>a. جب ٹریفک نہ ہو</p> <p>b. کسی بھی وقت نہیں</p> <p>c. ہر وقت</p> <p>d. جب بڑی سڑک ٹریفک سے پاک ہو</p>	b
89.	چار ٹائروں والی گاڑی کا بڑا فائدہ _____ میں بہتری ہے	<p>a. سڑک کی تنصیبات</p> <p>b. فیول کی کھپت</p> <p>c. رُکنے کے فاصلے</p> <p>d. سواریوں کے آرام کے لئے</p>	a
90.	کونسے دو مواقعوں پر آپ اپنی گاڑی کے ٹائروں میں کم ہوا رکھ سکتے ہیں	<p>a. جب روڈ پر پھسلن ہو</p> <p>b. جب زیادہ سفر ہو</p> <p>c. جب ٹائر کی گڈی 2 mm سے کم ہو</p>	b

		d. جب بھاری وزن ہو	
91.	آپ بائیں طرف ایک سائیڈ روڈ پر مڑ رہے ہیں آپ کو کین باتوں کا خیال رکھنا چاہیے	a. ایک طرفہ ٹریفک b. پیدل چلنے والوں کا c. ٹریفک کی رُکاوٹ کا d. پارک ہوئی گاڑیوں کا	b
92.	لمبے سفر پر تھکاوٹ کی وجہ سے آپ کو نیند آ سکتی ہے۔ جواب درکار ہے	a. موٹروے کو چھوڑ کر محفوظ مقام کو رُکنے کے لئے مُنتخب کریں b. اردگرد کسی پُر فضا مقام کو دیکھیں c. تیز سفر کریں تاکہ جلدی ختم ہو جائے d. گاڑی میں تازہ ہوا کے داخل کو یقینی بنائیں	a
93.	آپ ایک گیلی سڑک پر گاڑی کے پیچھے جا رہے ہیں آپ لازمی طور پر کم از کم فاصلہ رکھیں گے	a. ایک سیکنڈ b. دو سیکنڈ c. تین سیکنڈ d. چار سیکنڈ	d
94.	آپ تیز بارش میں سفر کر رہے ہیں آپ کا رُکنے کا فاصلہ	a. ڈبل b. ادھا c. دس گنا زیادہ d. کوئی مختلف نہیں	a
95.	آپ ایک سائیڈ روڈ پر ریورس کرنا چاہ رہے ہیں اور ایک پیدل چلنے والا آپ کے پیچھے سے گزرنا چاہتا ہے آپ کیا کریں گے	a. رُکنے کا اشارہ کریں گے b. اُس کو گزرنے دیں گے c. اُس کو گزرنے کا اشارہ کریں گے d. اُس سے پہلے ریورس کریں گے	b
96.	ایمرجنسی پناہ کا علاقہ موٹروے پر کس لئے ہوتا ہے؟	a. ایسا علاقہ جہاں آپ موبائل فون استعمال کرنا چاہیں b. ایمرجنسی اور گاڑیوں کے خراب ہونے کی صورت میں c. ایمرجنسی ریکوری وہیکل کے پارک ہونے کے لئے d. کھڑی گاڑیوں کو کراس کرنے کے لئے	b
97.	آپ اگلے خروج سے موٹروے کو چھوڑنا چاہتے ہیں۔ اُس خروج پر پہنچنے سے پہلے آپ اپنی گاڑی کس لین میں رکھیں گے	a. درمیانی لین میں b. بائیں ہاتھ کی لین میں c. ہارڈ شولڈر پر d. کسی بھی لین میں	b
98.	آپ کب گاڑی نہیں چلا سکتے	a. شراب یا کسی دوائی کے زیر اثر (واضح یا غیر واضح) b. جب تھکے ہوں یا نیند کی حالت میں c. "دونوں" اور "ب" d. مجھے پتہ نہیں	c
99.	سڑک سے جانوروں کے گزرنے کا کیا قانون ہے	a. آہستہ ہو جائیں b. تھوڑا وقت دیں c. بارن مت دیں اور انجن کی رفتار نہ بڑھائیں d. اوپر دیئے گئے سارے	d
100.	کیا آپ چھوٹی سڑک سے بڑی سڑک پر گاڑی ریورس کر سکتے ہیں؟	a. نہیں b. ہاں c. معلوم نہیں	a

		d. ان میں سے کوئی نہیں	
101.	آپ ڈبل انڈیکس کا استعمال کب کریں گے	a. ایمرجنسی اور گاڑی کے خراب ہونے کی صورت میں b. شادی پر c. ایک لائن میں رہنے پر d. ریس کے دوران	a
102.	موٹروے کون نہیں استعمال کر سکتا	a. سائیکل سوار b. پیدل اشخاص c. جانوروں سے کھینچنے والی گاڑیاں d. اوپر دیئے گئے سارے	d
103.	ایک غیر مسلسل سفید لائن سے آپ کیا معنی اخذ کرتے ہیں	a. وہ لائن جو سڑک کے درمیانی حصے کو تقسیم کرتی ہے اور صرف اسی صورت میں اُس کو کراس کرنا چاہیے جب ایسا کرنا محفوظ ہو b. حد رفتار کو ملحوظ خاطر رکھیں c. اوپر دیئے گئے سارے d. مجھے معلوم نہیں	a
104.	آپ کو کہاں اور ٹیک نہیں کرنا چاہیے۔ غلط جواب منتخب کریں	a. ہل Humpback b. جنکشن کے قریب c. سائڈ پیئر d. غیر مسلسل سفید لائن کے اوپر سے	d
105.	ایسے مقام کا نام بتائیں جہاں آپ پارک نہیں کر سکتے	a. مصروف سڑک کے کنارے b. پبلک پارک کے نزدیک c. روڈ کے کنارے پر d. اوپر دیئے گئے سارے	d
106.	بارڈ شوولڈر کب استعمال کرنا چاہیے؟	a. آرام کے لیے b. موبائل فون کے استعمال کے لیے c. گاڑی خراب ہونے کی صورت میں d. اوپر دیئے گئے تمام	c
107.	گول چکر میں داخل ہونے کا کیا قانون ہے	a. آپ دائیں طرف سے آنے والی گاڑیوں کو راستہ دیں b. بائیں طرف c. ٹریفک کو رفتار میں پیچھا کریں d. اوپر دیئے گئے سارے	a
108.	پیلی ٹریفک لائٹ کا کیا مطلب ہے	a. لائن سے پہلے رُکے جائیں b. نہ رُکیں c. آرام کریں d. اوپر دیئے گئے سارے	a
109.	بائیں طرف رُکنے کے بعد دوبارہ چلنے سے پہلے آپ کیا کریں گے	a. اپنے اگلے اور پچھلے شیشے دیکھیں گے b. BlindSpot نظر آنے c. چلنے سے پہلے آگے دیکھیں گے d. اوپر دیئے گئے سارے	d
110.	سامنے سے پڑنے والی لائٹس کی وجہ سے اگر آپ کو نظر آنا بند ہو گیا ہو تو آپ کیا کریں گے	a. بارن بجائیں b. اپنی گاڑی کی ہیڈ لائٹس فل کریں گے c. اپنی آنکھیں بند کریں گے	d

		d. بائیں طرف دیکھیں گے آہستہ ہونگے اگر ضروری ہو تو رُک جائیں	
111.	آپ بائیں جانب سے کب اوورٹیک کر سکتے ہیں	a. اگلا ڈرائیور دائیں طرف مڑنا چاہے اور اشارہ دے b. آہستہ چلنے والی ٹریفک جہاں بائیں طرف والی ٹریفک تیز ہو بانسبت دائیں ٹریفک c. جب آپ بائیں مڑیں d. اوپر دیئے گئے سارے	a
112.	چند مثالیں دیں جہاں آپ پیدل چلنے والوں کے بارے میں محتاط ہوں	a. سائیکلوں b. ٹریفک لائٹس c. جنکشن d. اوپر دیئے گئے سارے	d
113.	CONTROLLED PEDESTRIAN CROSSING کدکیا مطلب ہے؟	a. پیدل اشخاص کی ٹریفک لائٹس b. گول چکر c. آمنے سامنے پارکنگ d. اوپر دیئے گئے سارے	a
114.	ہائی وے پر کار کی حد رفتار کیا ہے	a. 100 کلو میٹر b. 110 کلو میٹر c. 120 کلو میٹر d. اوپر دیئے گئے سارے	a
115.	جنکشن پر جہاں نشان نہ ہو آپ کین گاڑیوں کو برابر اہمیت دیں گے؟	a. تمام گاڑیاں جو آپ کے دائیں طرف سے آئیں b. ٹریفک جو کہ پہلے جنکشن میں موجود ہو c. اوپر دیئے گئے سارے d. مجھے معلوم نہیں	c
116.	کین حالات میں گاڑی رات کو روڈ پر پارک کرنا نہایت خطرناک ثابت ہو سکتا ہے؟	a. شدید دُھند میں b. کم روشنی والے علاقوں میں c. ان میں سے کوئی نہیں d. اوپر دیئے گئے سارے	a
117.	دُھند کے دوران کونسی لائٹس کو آن رکھنا چاہیے؟	a. Head Lights b. اگر آگے اور پیچھے فوگ لائٹس لگائی ہوں ان رکھیں c. ان میں سے کوئی نہیں d. اوپر دیئے گئے سارے	b
118.	ریورس کرنے سے پہلے کین باتوں کا خیال کرنا چاہئے؟	a. صاف منظر ، کوئی پیدل اشخاص نہ ہوں خصوصاً بچے اور سائیکل سوار b. بارن بجائیں c. ان میں سے کوئی نہیں d. اوپر دیئے گئے سارے	a
119.	آپ کو اوورٹیک سے پہلے کیا بات ذہن میں رکھنی چاہئے؟	a. آپکا اگلا منظر صاف ہو اور واضح ہو b. ڈبل انڈیکٹر کا استعمال c. بارن کا استعمال d. اوپر دیئے گئے سارے	a
120.	جنکشن پہنچنے پر دائیں یا بائیں مڑنے سے پہلے اگر پیدل اشخاص وہاں پہلے سے موجود ہو تو آپ کیا کریں گے؟	a. آہستہ ہو جائیں انہیں گزرنے دیں b. بارن دیں اور خود گزر جائیں c. اوپر دیئے گئے سارے	a

		d. اوپر دیئے گئے میں سے کوئی نہیں	
121.	روڈ جنکشن پر آپ کو کہاں رُکنا چاہیے؟	a. آپ اسٹاپ لائن سے پہلے یا اسٹاپ لائن پر رُک جائیں b. زیبرا کراسنگ c. ٹریفک کے درمیان d. اوپر دیئے گئے سارے	a
122.	اگر کوئی گاڑی آپ کو اوورٹیک کر رہی ہو تو آپ کیا کریں گے؟	a. رفتار بڑھائیں b. اُس رفتار سے چلنے رہیں c. ہارن d. اوپر دیئے گئے سارے	b
123.	روڈ کے درمیان سنگل لائن کا کیا مطلب ہے؟	a. روڈ کو تقسیم کرتی ہے اور اسے کسی صورت میں کراس نہیں کرنا چاہیے b. روڈ کو تقسیم کرتی ہے کراس کر سکتے ہیں c. روڈ فرنیچر d. مجھے معلوم نہیں	a
124.	اوورٹیکنگ کے بعد آپ کیا نہیں کریں گے؟	a. Cut In b. آپستہ ہونا c. Mocking d. اوپر دیئے گئے سارے	d
125.	چند مقامات کی نشاندہی کریں جہاں آپ بیڈ لائٹس ڈپ کر سکتے ہیں؟	a. زیر تعمیر علاقوں میں b. دُھند اور برفباری میں c. اگلی گاڑی کے انتہائی نزدیک پہنچ کر d. اوپر دیئے گئے سارے	d
126.	کیا آپ جب ٹریفک سگنل کی پیلی بتی جلتی ہو گزر سکتے ہیں؟	a. تبھی جب کواسنگ واضح ہو اور صاف ہو b. ہمیشہ c. نہیں d. اوپر دیئے گئے سارے	a
127.	کیا فٹ پاتھ پر اپنی گاڑی پارک کر سکتے ہیں؟	a. نہیں b. ہاں جب پبلک سروس ایریا ہو c. ہاں d. مجھے معلوم نہیں	a
128.	کیا آپ اوورٹیکنگ کے دوران حد رفتار سے رفتار زائد کر سکتے ہیں؟	a. نہیں b. ہاں c. پتہ نہیں d. اوپر دیئے گئے سارے	a
129.	آپ اپنی لائٹس کب آن کریں گے؟	a. 20 منٹ قبل غروب آفتاب b. 30 منٹ قبل غروب آفتاب c. غروب آفتاب d. مجھے معلوم نہیں	b
130.	جب آپ کی گاڑی کو آگ لگ جائے تو کیا کریں گے؟	a. رفتار بڑھائیں گے تاکہ آگ کے شعلے رُک جائیں b. ہارن بجائیں گے تاکہ دوسروں کو خبردار کرسکیں c. رُک جائیں اور گاڑی بند کردیں d. اوپر دیئے گئے سارے	c
131.	ڈرائیور کب سیٹ بیلٹ کے بغیر گاڑی چلا سکتا ہے؟	a. ریورس کے دوران	a

		b. جب عمر 65 سال یا زائد ہو c. جب ڈرائیور حاملہ ہو d. اوپر دیئے گئے سارے	
132.	کیا آپ موٹروے پر ریورس کر سکتے ہیں؟	a. ہاں b. نہیں c. پتہ نہیں d. اوپر دیئے گئے سارے	b
133.	کیا پیدل اشخاص کا زیبرا کراسنگ پر سے گزرنے کا پہلا حق ہے؟	a. ہاں b. نہیں c. پتہ نہیں d. اوپر دیئے گئے سارے	a
134.	کیا آپ جنکشن باکس پر رُک سکتے ہیں؟	a. ہاں b. نہیں c. پتہ نہیں d. اوپر میں سے کوئی نہیں	b
135.	دوران ڈرائیونگ موبائل فون کا استعمال	a. ٹریفک قوانین کی خلاف ورزی ہے b. ایمرجنسی میں اجازت ہے c. اگر اسپیکر آن ہو تو اجازت ہے d. اوپر دیئے گئے سارے	a
136.	مسلسل سفید لائن نشاندہی کرتی ہے کہ	a. اوورٹیک b. اوورٹیک کرنا ممنوع ہے c. فوراً رُکیں d. بارن استعمال کریں	b
137.	کیا ہم پاکستان میں بائیں جانب سے اوورٹیک کر سکتے ہیں؟	a. ہاں b. نہیں c. پتہ نہیں d. ان میں سے کوئی نہیں	b
138.	کیا ہم عام حالات میں اچانک بریک لگا سکتے ہیں؟	a. ہاں b. نہیں c. پتہ نہیں d. ان میں سے کوئی نہیں	b
139.	کیا پیدل اشخاص کو موٹروے پر اجازت ہے؟	a. ہاں b. نہیں c. پتہ نہیں d. ان میں سے کوئی نہیں	b
140.	کیا ایمرجنسی گاڑیاں سُرُخ بتی کراس کر سکتی ہیں؟	a. ہاں b. نہیں c. پتہ نہیں d. ان میں سے کوئی نہیں	a
141.	کیا ہارڈ شوولڈر اوورٹیکنگ کے لئے استعمال ہو سکتا ہے؟	a. ہاں b. نہیں c. پتہ نہیں d. ان میں سے کوئی نہیں	b
142.	کیا اسپتال کے نزدیک بارن کے استعمال کی اجازت ہے؟	a. ہاں	b

		<p>b. نہیں c. پتہ نہیں d. ان میں سے کوئی نہیں</p>	
143.	کونسی لین گاڑی کے چلانے کے لئے استعمال ہوتی ہے؟	<p>a. بائیں b. دائیں c. درمیانی d. اوپر دیئے گئے سارے</p>	b
144.	کونسی چیز آپ کو گاڑی سے باہر پھینکنے کی اجازت ہے؟	<p>a. سیگریٹ b. کوڑا c. "دونوں" اور "ب" d. کچھ بھی نہیں</p>	d
145.	دُھند کے دوران آپ کونسی لائٹس استعمال کریں گے؟	<p>a. ہیڈ ل لائٹس b. فوگ لائٹس c. "دونوں" اور "ب" d. ان میں سے کوئی نہیں</p>	c
146.	کونسا انڈیکٹر دایں طرف سے اوورٹیکنگ کے لئے استعمال ہوتا ہے	<p>a. دایاں b. بایاں c. پتہ نہیں d. ان میں سے کوئی نہیں</p>	a
147.	اوورٹیکنگ کے دوران کتنی بار انڈیکٹر استعمال ہوتا ہے	<p>a. ایک b. دو c. تین d. ان میں سے کوئی نہیں</p>	b
148.	جب اوورٹیکنگ لین میں پہنچ جائیں تو انڈیکٹر کا کیا کرنا چاہئے؟	<p>a. انڈیکٹر بند کریں b. انڈیکٹر آن رہنے دینگے c. انڈیکٹر کو مسلسل جانے بجھنے دیں d. اوپر دیئے گئے سارے</p>	a
149.	درج گاڑیوں کی اقسام میں سے کونسی ایک گاڑی سُرخ بتی چھت پر واضح طور پر لگا سکتی ہے؟	<p>a. کمرشل موٹر گاڑیاں b. سائیکلیں c. ایمرجنسی گاڑی جب ایمرجنسی پر جا رہی ہوں d. ان میں سے کوئی نہیں</p>	c
150.	اندھیرا ہونے کے بعد کب ڈرائیور کے لئے ضروری ہے کہ ہیڈ لائٹس منہم رکھے؟	<p>a. اگلی گاڑی کے نزدیک پہنچنے پر b. اگلی گاڑی سے 150cm کی نزدیکی پر c. یہ ایک احتیاطی تدبیر ہے کوئی قانون نہیں d. مجھے معلوم نہیں</p>	a
151.	شراب اور منشیات کا استعمال ڈرائیور کی کارکردگی کو اس طرح مُتاثر کرتا ہے کہ	<p>a. دیکھنے اور فیصلہ کرنے میں b. رد عمل کے وقت کو c. اوپر دیئے گئے سارے d. مجھے معلوم نہیں</p>	c
152.	آپ کو کیا کرنا چاہئے جب دوسری گاڑی کا ڈرائیور آپ کو سگنل دے کہ وہ آپ کو اوورٹیک کرنا چاہتا ہے؟	<p>a. دایں طرف سے راستہ دیں b. اگلے ڈرائیور کو پیچھے رہنے کا اشارہ دیں c. دائیں طرف چلے جائیں اور اوورٹیکنگ والی گاڑی کا راستہ بند کر دیں d. اوپر دیئے گئے سارے</p>	a

153.	آپ کیا کریں گے جب سگنل پر کھڑے ہوں اور سُرخ اور پیلی بتی آن ہوں	a. اگر آپ چل رہے ہو تو کراس کر لیں b. اگر رُکے ہوں تو چل سکتے ہیں c. چلنے کیلئے تیار رہیں مگر سبز بتی کے نشان کا انتظار کریں d. مجھے معلوم نہیں	c
154.	ایکسپریس وے یا تیسری لین کس لئے استعمال ہوتی ہے؟	a. رفتار بڑھانے کے لئے b. برائے اوورٹیکنگ c. اوپر تمام d. مجھے معلوم نہیں	b
155.	ریورس لائیٹ کا کیا رنگ ہے؟	a. سبز b. سُرخ c. سفید d. مجھے معلوم نہیں	c
156.	کیا ڈرائیونگ کے دوران پیغام پڑھنا یا بھیجنے جائز ہے؟	a. نہیں b. پتہ نہیں c. ہاں d. 80 کلومیٹر کی رفتار سے کم	a
157.	دوران ڈرائیونگ کس چیز کے استعمال سے توجہ آسانی سے ہٹ سکتی ہے؟	a. موبائل b. انٹر کنڈیشنر c. سی ڈی d. مجھے معلوم نہیں	a
158.	زیبرا کراسنگ برائے؟	a. جانور b. گاڑیاں c. پیدل اشخاص d. مجھے معلوم نہیں	c
159.	موٹروے پر سپیڈ کی حد	a. 120 کلومیٹر فی گھنٹہ b. 140 کلومیٹر فی گھنٹہ c. 130 کلومیٹر فی گھنٹہ d. 80 کلومیٹر فی گھنٹہ	a
160.	فٹ پاتھ نہ ہونے کی صورت میں ایک پیدل شخص روڈ کے کس حصے پر چل سکتا ہے؟	a. فٹ پاتھ کی عدم موجودگی میں شخص کو ہمیشہ دائیں طرف چلنا چاہیے b. روڈ کے بائیں طرف c. روڈ کے دونوں اطراف پر d. مجھے معلوم نہیں	a
161.	کونسے 3 مقامات ہیں جہاں سے روڈ محفوظ طریقے سے کراس کیا جا سکتا ہے؟	a. زیبرا کراسنگ b. سڑک کے نیچے سے c. سڑک کے اوپر والا پل d. اوپر دیئے گئے سارے	d
162.	زیر تربیت ڈرائیور اپنی گاڑی کے اگلے اور پچھلے شیشے پر کیا واضح کرے گا؟	a. L b. S c. W d. D	a
163.	موٹروے پر کم سے کم حد رفتار ہے	a. 65 کلومیٹر فی گھنٹہ b. 60 کلومیٹر فی گھنٹہ	a

		c. 70 کلومیٹر فی گھنٹہ d. 55 کلومیٹر فی گھنٹہ	
164.	موٹر گاڑی سڑک پر چلاتے وقت ڈرائیور کے پاس	a. ڈرائیونگ لائسنس پاس نہ رکھے b. رجسٹریشن بُک پاس نہ رکھے c. لازمی طور پر ڈرائیونگ لائسنس اور رجسٹریشن بُک ہمراہ رکھے d. مجھے معلوم نہیں	c
165.	موٹر گاڑی کا ڈرائیور	a. اپنی خواہش پر گاڑی چلانے جب ٹریفک سگنل موجود نہ ہو b. گاڑی کو بمطابق ٹریفک قوانین اچھے اور محفوظ طریقے سے چلانے c. اپنی خواہش پر گاڑی چلانے جب ٹریفک پولیس نہ ہو d. اپنی عادت کے مطابق چلائیں	b
166.	دوران ڈرائیونگ ڈرائیور کو لازمی طور پر کن اصولوں کو مد نظر رکھنا ہوگا؟	a. RIGHT HANDED DRIVE b. LEFT HANDED DRIVE c. INNER LANE DRIVE d. MIDDLE LANE DRIVE	a
167.	جب ٹریفک پولیس موقعہ پر ٹریفک کنٹرول کر رہی ہو تو موٹر گاڑی کا ڈرائیور وہی کرے گا جو	a. روڈ کے نشان ہوگا b. ٹریفک لائٹس ہوں گی c. ٹریفک پولیس کا حکم ہوگا d. روڈ نشاندہی ہوگی	c
168.	جب سڑک پر ٹریفک سگنل یا سڑک کی نشاندہی یا نشان موجود نہ ہو تو موٹر گاڑی کا ڈرائیور لازمی	a. ڈرائیور اپنی خواہش کے مطابق b. رفتار بڑھائے c. رُکے اور اردگرد دیکھ کر پھر آگے چلے d. اگر محفوظ ہو تو گزرے اور ٹریفک میں رُکاوٹ نہ بنے	d
169.	سڑک جس پر حد رفتار نشان کے ساتھ واضح ہو تو موٹر گاڑی کا ڈرائیور	a. اجازت نہیں کہ حد رفتار سے تجاوز کرے b. 10 فیصد حد رفتار سے تجاوز کی اجازت c. زیادہ رفتار سے چلا سکتا ہے d. ان میں سے کوئی نہیں	a
170.	رات کو روڈ کے خطرناک حصے پر گاڑی چلاتے وقت ڈرائیور کو لازمی طور پر	a. رفتار کے مطابق گاڑی چلانے b. رفتار کم کرے اور احتیاط سے چلے c. رفتار کو برقرار رکھے d. حد رفتار سے تجاوز کر جائے	b
171.	خطرناک موسمی حالات میں ڈرائیور کو چاہیے کہ	a. واضح رفتار سے زیادہ چلانے b. حد رفتار سے تجاوز کر جائے c. رفتار کے مطابق d. کم رفتار سے	d
172.	ایمرجنسی گاڑیاں جب کسی ایمرجنسی مقام پر پہنچ رہی ہو تو دوسری گاڑیوں کو چاہیے کہ	a. رفتار بڑھا کر ان کے ساتھ مل جائے b. اوورٹیک محفوظ طریقے سے کریں c. راستہ دیں بعض صورتوں میں d. لازمی راستہ دیں	d
173.	ایمرجنسی گاڑیاں جب کسی ایمرجنسی مقام پر نہ جا رہی ہوں تو	a. ان کو "Right of Way" کی خلاف ورزی کریں	a

		<p>اجازت نہیں ہے کہ</p> <p>b. ان کو "Right of Way" کی خلاف ورزی کریں</p> <p>اجازت ہے کہ</p> <p>c. دوسری گاڑیاں اور پیدل اشخاص کو راستہ دیں</p> <p>d. بعض صورتوں میں</p>	
174.	جب موٹر گاڑیوں کو ایک دوسرے کو کراس کرنے میں دشواری ہو جب وہ ایک تنگ پہاڑی سڑک پر ہوں تو کون پہلے جائے گا؟	<p>a. تیز رفتار گاڑی</p> <p>b. مال بردار گاڑی</p> <p>c. گاڑی جو پہاڑ کے نزدیک ہو</p> <p>d. وہ گاڑی جو پہاڑ کے نزدیک نہ ہو</p>	c
175.	چڑھائی پر کونسی گاڑی پہلے چڑھے گی؟	<p>a. وہ گاڑی جو اوپر چڑھ رہی ہو</p> <p>b. وہ گاڑی جو چوٹی سے دور ہو</p> <p>c. وہ گاڑی جو نیچے آرہی ہو</p> <p>d. اوپر دینے گئے تمام</p>	a
176.	رات کے دوران ایک دوسرے کو اوورٹیک کرتے وقت	<p>a. LOW BEAM</p> <p>b. HIGH BEAM</p> <p>c. DIM LIGHT</p> <p>d. اوپر کوئی نہیں</p>	a
177.	جب موٹر گاڑی کو اگلے چوک پر ٹریفک جام ملے تو	<p>a. چوک کے باہر رکے اور انتظار کرے بجائے چوک میں داخل ہونے کے</p> <p>b. بائیں طرف سے چوک میں داخل ہو اور گزرنے کی کوشش کرے</p> <p>c. دائیں طرف سے چوک میں داخل ہو اور گزرنے کی کوشش کرے</p> <p>d. اچانک یوٹرن لے اور مخالف سمت میں چلے</p>	a
178.	جب موٹر گاڑی کو بائیں ٹرن لینا ہو تو ڈرائیور کو چاہئے کہ	<p>a. بائیں سائیڈ کا انڈیکیٹر آن کرے</p> <p>b. ڈبل انڈیکیٹر آن کرے</p> <p>c. دائیں سائیڈ کا انڈیکیٹر آن کرے</p> <p>d. ہاتھ کا اشارہ برائے دوسری گاڑیاں</p>	a
179.	موٹر گاڑی کو اوورٹیکنگ سے پہلے ڈرائیور کو چاہئے کہ	<p>a. ڈبل انڈیکیٹر آن کرے</p> <p>b. بائیں سائیڈ کا انڈیکیٹر آن کرے</p> <p>c. دائیں سائیڈ کا انڈیکیٹر آن کرے</p> <p>d. ہاتھ کا اشارہ برائے دوسری گاڑیاں</p>	c
180.	جب موٹر گاڑی یو ٹرن لینے لگے تو ڈرائیور لازمی طور پر پیشگی	<p>a. ہاتھ کا اشارہ برائے دوسری گاڑیاں</p> <p>b. ڈبل انڈیکیٹر آن کرے</p> <p>c. دائیں سائیڈ کا انڈیکیٹر آن کرے</p> <p>d. بائیں سائیڈ کا انڈیکیٹر آن کرے</p>	c
181.	جب موٹر گاڑی کو دائیں لین میں آنا ہو تو تو ڈرائیور کو چاہئے کہ پیشگی _____	<p>a. ڈبل انڈیکیٹر آن کرے</p> <p>b. ہاتھ کا اشارہ برائے دوسری گاڑیاں</p> <p>c. دائیں سائیڈ کا انڈیکیٹر آن کرے</p> <p>d. بائیں سائیڈ کا انڈیکیٹر آن کرے</p>	c
182.	جب موٹر گاڑی بعد از اوورٹیکنگ واپس اصل لین میں آنے لگے تو ڈرائیور کو چاہئے کہ پیشگی _____	<p>a. ڈبل انڈیکیٹر آن کرے</p> <p>b. دائیں سائیڈ کا انڈیکیٹر آن کرے</p> <p>c. ہاتھ کا اشارہ برائے دوسری گاڑیاں</p> <p>d. بائیں سائیڈ کا انڈیکیٹر آن کرے</p>	d

183.	جب موثر گاڑی کو واپس لین میں آ جانا ہو تو ڈرائیور کو چاہئے کہ پیشگی _____	a. ڈبل انڈیکٹر آن کرے b. ہاتھ کا اشارہ برائے دوسری گاڑیاں c. دائیں سائیڈ کا انڈیکٹر آن کرے d. بائیں سائیڈ کا انڈیکٹر آن کرے	d
184.	جب خراب موسمی حالات میں گاڑی چلائی ہو تو ڈرائیور کو چاہئے کہ فوگ لائٹس آن رکھے اور	a. ڈبل انڈیکٹر آن کرے b. سمتی نشان c. فل لائٹس d. مدہم لائٹس	a
185.	جب موثر گاڑی کا ڈرائیور ایک خطرناک موڑ کے نزدیک پہنچے جہاں اُسے محفوظ نظر نہ آئے تو ڈرائیور لازمی طور پر --- اور دوسروں کی توجہ حاصل کرنے کے لئے ہارن دے	a. تیز چلے اور آگے چلے b. سپیڈ کم کرے اور آہستہ چلے c. ڈبل انڈیکٹر آن کریں d. ان میں سے کوئی نہیں	b
186.	چڑھائی کے نزدیک پہنچتے ہوئے جب ڈرائیور کو کم نظر آئے تو، اگلے چوک پر پہنچنے پر تو ڈرائیور دوسروں کی توجہ مبذول کرانے کے لئے ہارن دے اور	a. تیزی سے آگے چلے b. ڈبل انڈیکٹر آن کرے c. سپیڈ کم کرے اور آہستہ چلے d. اپنی مرضی سے آگے بڑھے	c
187.	چڑھائی سے اترتے ہوئے موثر گاڑی کے ڈرائیور کو چاہئے کہ	a. انجن بند کر دے b. نیوٹرل کر دے اور انجن بند نہ کرے c. نیوٹرل گیر میں d. کسی صورت میں نیوٹرل نہ کرے اور انجن بند نہ کرے	d
188.	چار گھنٹے سے زائد گاڑی چلانے پر ڈرائیور کو لازمی طور پر رُک کر کم از کم کتنا ریسٹ کرنا چاہئے؟	a. 5منٹ b. 10منٹ c. 20منٹ d. 40منٹ	c
189.	جب موثر گاڑیوں کو عارضی طور پر رُکنا ہو تو	a. اُس لین میں رُکے جو گاڑیوں کے لیے ہ b. آنے والی ٹریفک کے دائیں سائیڈ پر رُکیں c. روڈ کے بائیں سائیڈ پر رُکیں d. روڈ کی طرف رُکیں	c
190.	موثر گاڑی کو اجازت نہیں کہ انٹر سیکشن کے نزدیک -----فاصلے پر رُکے	a. 20میٹر b. 30میٹر c. 40میٹر d. 50میٹر	d
191.	موثر گاڑی کو اجازت نہیں کہ موڑ کے نزدیک -----فاصلے پر رُکے	a. 50میٹر b. 40میٹر c. 30میٹر d. 20میٹر	a
192.	موثر گاڑی کو اجازت نہیں کہ اُترائی -----میں فاصلے پر رُکے	a. 50میٹر b. 40میٹر c. 30میٹر d. 20میٹر	a
193.	موثر گاڑی کو اجازت نہیں کہ سُرنگ کے نزدیک فاصلے پر رُکے	a. 20میٹر b. 30میٹر c. 40میٹر	d

		d. 50 میٹر	
194.	موٹر گاڑی کو اجازت نہیں ہے کہ آگ بجھانے یا فائر بریگیڈ کی گاڑیاں جو جگہ استعمال کریں اُس سے فاصلہ پر رُکے	a. 5 میٹر b. 10 میٹر c. 20 میٹر d. 30 میٹر	d
195.	ایکسپریس وے کو چھوڑتے وقت ڈرائیور سے کم رفتار والی لین میں اُتے اور رفتار کم کرتا ہوا چھوڑ دے	a. بائیں سائیڈ کا انڈیکیٹر آن کریں b. دائیں سائیڈ کا انڈیکیٹر آن کریں c. ڈبل انڈیکیٹر آن کریں d. ہیڈ لائٹس آن کریں	a
196.	جب موٹر گاڑی ایکسپریس وے میں داخل ہو جائے تو	a. کم رفتار یا زیادہ رفتار والی لین یا ہارڈ شوولڈر سے اوور ٹیک کر سکتی ہے b. ٹریفک کی مخالف سمت چلانے کی ریورس کی اور یوٹرن کی سینٹرل ڈیوائسنگ لائن سے یوٹرن لینے کی اجازت نہ ہوگی c. ایمرجنسی ہا علاوہ ایمرجنسی چلانے کی اجازت ہوگی d. گاڑی کو ٹیسٹ یا گاڑی سیکھی جا سکتی ہے	b
197.	جب گاڑی ایکسپریس وے میں داخل ہو جائے تو	a. گاڑی کو لہراتے ہوئے یا لین کے اوپر چلا سکتے ہیں b. ہارڈ شوولڈر پر چلا سکتے ہیں c. ہارڈ شوولڈر، کم رفتار یا زیادہ رفتار والی لین سے اوور ٹیکنگ کی اجازت نہ ہوگی d. ڈرائیونگ سیکھ سکتے ہیں	c
198.	جب موٹر گاڑی ایکسپریس وے پر چل رہی ہو تو	a. ہارڈ شوولڈر پر سواریاں اتارنے یا چڑھانے کے لئے رُک سکتے ہیں b. ایمرجنسی لین میں سامان لادنے یا اتارنے کے لئے رُک سکتے ہیں c. ایمر جنسی لین میں رُک سکتے ہیں d. ایمرجنسی لین میں بغیر ایمرجنسی کے نہ گاڑی چلا سکتے ہیں اور نہ گاڑی روک سکتے ہیں	d
199.	جب سُرُخ لائٹ جل رہی ہو تو گزر سکتی ہیں اگر وہ ٹریفک کے بہاؤ میں رکاوٹ نہ بنے اور پیدل اشخاص انہیں گزرنے دیں۔	a. دائیں طرف مڑنے والی گاڑیاں b. بائیں طرف مڑنے والی گاڑیاں c. گاڑیاں جو ٹی چوک سے مڑ رہی ہوں d. تمام اطراف کی گاڑیاں	b
200.	جب پیلی لائٹ جل رہی ہو	a. یہ اجازت دیتی ہے کہ گاڑیاں گزریں b. وہ گاڑیاں جو سٹاپ لائن سے گزریں انکو اجازت ہے کہ وہ گزر جائیں c. یہ اجازت دیتی ہے کہ گاڑیاں بائیں طرف مڑیں d. گاڑیوں کو تیزی سے گزرنا چاہئے	b
201.	جب سبز تیر لائٹ آن ہو یہ اجازت دیتی ہے کہ	a. بائیں طرف مڑیں b. دائیں طرف مڑیں c. سیدھا چلیں d. یوٹرن لے لیں	c
202.	جب سبز تیر کی نشان والی لائٹ بائیں طرف مڑتے ہوئے آن ہو یہ گاڑی کو اجازت دیتی ہے کہ	a. بائیں طرف مڑیں b. دائیں طرف مڑیں	a

		c. سیدھا چلیں d. یو ٹرن لے لیں	
203.	جب سبز تیر کی نشان والی لائیٹ دائیں طرف مڑتے ہوئے ان ہو یہ گاڑی کو اجازت دیتی ہے کہ	a. بائیں طرف مڑیں b. دائیں طرف مڑیں c. سیدھا چلیں d. یو ٹرن لے لیں	b
204.	جب سرخ تیر کی نشان والی لائیٹ سیدھی طرف ان ہو یہ گاڑی کو منع کرتی ہے کہ	a. بائیں مڑنے سے b. دائیں مڑنے سے c. سیدھا جانے سے d. یو ٹرن سے	c
205.	جب سرخ تیر کی نشان والی لائیٹ بائیں طرف مڑتے ہوئے ان ہو یہ گاڑی کو منع کرتی ہے کہ	a. بائیں مڑنے سے b. دائیں مڑنے سے c. سیدھا جانے سے d. یو ٹرن سے	a
206.	جب سرخ تیر کی نشان والی لائیٹ دائیں طرف مڑتے ہوئے ان ہو یہ ظاہر کرتی ہے کہ گاڑی کو منع ہے کہ	a. بائیں مڑے b. دائیں مڑے c. سیدھا جائے d. یو ٹرن سے	b
207.	مُسلسل جلتی بجھتی پیلی لائیٹ تنبیہ دیتی ہے کہ	a. گاڑیاں اور پیدل چلنے والے تیزی سے گزرے b. گزرنے والے گاڑیاں اور پیدل چلنے والے رُک جائیں c. اس کا مطلب ہے کہ گزرنے والی گاڑیاں اور پیدل چلنے والے گزر جائیں d. اس کا مطلب ہے کہ گزرنے والی گاڑیاں اور پیدل چلنے والے گزر نے سے پہلے تسلی کر لے کہ ابھی حفاظت سے گزر سکتے ہیں	d
208.	موٹر گاڑی چلاتے وقت ڈرائیور اسٹیرنگ سے	a. وقتی طور پر دونوں ہاتھ اٹھا سکتا ہے b. اپنی مرضی کے مطابق c. پابند ہے کہ ایک ساتھ دونوں ہاتھ نہیں ہٹائے گا d. مجھے معلوم نہیں	c
209.	بریک پیڈل دباتے وقت ڈرائیور کو لازمی استعمال کرنا چاہیے	a. بائیں پاؤں کا اگلا حصہ b. دائیں پاؤں کا اگلا حصہ c. دائیں پاؤں کا درمیانی حصہ d. دائیں پاؤں کی ایڑھی	b
210.	گیرُ تبدیلی کے وقت	a. ڈرائیور سر جھکا کر نیچے نہیں دیکھے گا b. ڈرائیور آہستہ سے دبائے گا اور کھینچے گا c. ڈرائیور گیر کی سمت دیکھے گا d. ڈرائیور دباؤ کے ساتھ آگے پیچھے کرے گا۔	a
211.	بارشوں کا موسم محفوظ ڈرائیونگ پر اثر انداز ہوتا ہے کہ	a. الیکٹرک آلات شارٹ سرکٹ ہو جاتے ہیں b. روڈ سلپیری اور گیلی ہوتی ہے اور نظر متاثر ہوتی ہے c. انجن بسا اوقات رُک جاتا ہے d. گاڑی کو مزاحمت بڑھ جاتی ہے	b
212.	بارش کے بعد سڑک سلپیری اور گیلی ہو جاتی ہے اور بریک لگانے سے	a. انجن بند ہو جاتا ہے	c

		<p>b. دوسری گاڑیاں نظر انداز ہو جاتی ہیں</p> <p>c. روڈ سے سلیپ ہو سکتی ہے اور پھسل کر سائیڈ میں جا سکتی ہے</p> <p>d. حادثہ ہو سکتا ہے VISIBILITY کمزور</p>	
213.	دُھند محفوظ ڈرائیونگ پر ایسے اثر انداز ہو سکتی ہے کہ	<p>a. انجن آسانی سے بند ہو جاتا ہے</p> <p>b. گاڑی پھسل سکتی ہے</p> <p>c. گاڑی پر اثر بڑھ جاتا ہے</p> <p>d. نظر انا کم ہو جاتا ہے</p>	d
214.	رات کی ڈرائیونگ کے دوران ڈرائیور کی قوت مشاہدہ کمزور ہو جاتی ہے بانسبت دن کی ڈرائیونگ کے اور اُس کی نظر کی حد	<p>a. بڑھ جاتی ہے</p> <p>b. کم ہو جاتی ہے</p> <p>c. غیر تبدیلی</p> <p>d. بے قاعدگی</p>	b
215.	ژالہ باری اور برفباری کا موسم سڑک پر اثر انداز ہوتا ہے کہ	<p>a. الیکٹریک آلات شارٹ سرکٹ ہو جاتے ہیں</p> <p>b. نظر کی حد کم اور مزید متاثر ہو جاتی ہے</p> <p>c. دباؤ بڑھ جاتا ہے</p> <p>d. ڈرائیور کی نظر سورج کی روشنی منعکس ہونے سے متاثر ہو سکتی ہے اور سڑک کی سطح بھی پھسلنے کی وجہ سے متاثر ہوتی ہے</p>	d
216.	ژالا باری اور برفباری کے موسم میں ڈرائیونگ کے دوران	<p>a. بریک کا فاصلہ بڑھ جاتا ہے</p> <p>b. سلائڈنگ بڑھ جاتی ہے</p> <p>c. روڈ کی سطح کی پکڑ بڑھ جاتی ہے</p> <p>d. بریک کی کارکردگی میں کوئی فرق نہیں آتا</p>	a
217.	کیچڑ والی سڑک ڈرائیونگ پر اثر انداز ہو سکتی ہے	<p>a. گاڑی پر دباؤ کم ہو جاتا ہے</p> <p>b. ٹائر آسانی سے گھوم اور پھسل سکتے ہیں</p> <p>c. نظر کم اور حد نظر خراب ہو سکتی ہے</p> <p>d. سڑک پر پکڑ میں مضبوطی آجاتی ہے</p>	b
218.	سیلاب اور پانی کے سڑک پر کھڑے ہونے سے	<p>a. روڈ کی سطح پر کھڈے اور پوشیدہ سوراخ دیکھنا مشکل ہو جاتا ہے</p> <p>b. روڈ کی سطح پھسلنے کی وجہ سے بریک نہیں لگتی</p> <p>c. گاڑی آسانی سے پھسل سکتی ہے</p> <p>d. سورج کی روشنی منعکس ہو کر آنکھوں کی بینائی کو دُھندلا کر سکتی ہے</p>	a
219.	پہاڑی سڑک ڈرائیونگ پر اثر انداز ہوتی ہے	<p>a. روڈ سائن کم ہوتے ہیں</p> <p>b. ٹریفک حالات بورنگ ہوتے ہیں</p> <p>c. چڑھائی زیادہ، موڑ خطرناک اور سڑک کے حالات غیر یقینی ہوتے ہیں</p> <p>d. ٹریفک میں اضافہ ہو جاتا ہے</p>	c
220.	جب آپ کے سامنے سے آنے والی گاڑی اوورٹیک کرے اور اچانک آپ کی لین میں آ جائے تو	<p>a. رفتار بڑھا کر آگے جائیں</p> <p>b. رفتار کم کریں اور جتنا ممکن ہو سکے حالات قابو میں رکھیں</p> <p>c. اصل رفتار رکھیں</p> <p>d. گاڑی کا راستہ رُکیں</p>	b
221.	اگر رات کے دوران سفر میں آپ کی گاڑی کی تمام لائٹس بند ہو جائیں تو	<p>a. کم رفتار پر چلائیں</p> <p>b. جلداز جلد بریک لگائیں اور جہاں بے رُک جائیں</p> <p>c. فوراً بریک لگائیں اور روڈ کی بائیں جانب رُک</p>	c

		جائیں d. آہستہ رُکیں	
222.	جب دوسری گاڑی کو آپ ایک تباہ شدہ روڈ پر پھنسا دیکھیں اور وہ چل نہ رہی ہو تو	a. اُس کو جلدی چھوڑ دیں b. جتنی اُس کی مدد کر سکتے ہو مدد کریں c. آگے جا کر لین تبدیل کر لیں d. چکر میں گزر جائے	b
223.	دوران ڈرائیونگ جب آگے ٹریفک کا رش دیکھیں تو ڈرائیور کو چاہئے کہ	a. اگلی گاڑی کو اوورٹیک کرے b. دوسری گاڑیوں کے درمیان سے نکلے c. رفتار کم کرے، رُکے اور اپنی لین میں انتظار کرے d. ہارن بجائیں تاکہ دوسری گاڑیوں کو آگے کی طرف جانے پر مجبور کریں	c
224.	اگلی گاڑی اگر کیچڑ والی جگہ پر پھنس جائے تو ڈرائیور	a. گزر جائے b. آزادانہ طور پر اُسکی مدد کریں c. اُس کو بھلا دے d. اُس کو دھکیلے	b
225.	محتاط ڈرائیونگ کے تین سنہری اصول یہ ہیں کہ توجہ، محتاط اندازہ اور	a. بہادر اور محتاط b. معاف کرنے والا c. قبل از وقت احتیاط d. آہستہ ڈرائیونگ	c
226.	نارمل رفتار سے گاڑی چلاتے ہوئے ڈرائیور آسانی سے سڑک کے حالات سے واقف ہوتا ہے اور آسانی سے...جب کسی رکاوٹ کے پاس پہنچتا ہے	a. ایمرجنسی بریک لگا کر رُک لیتا ہے b. تیزی سے گزر جاتا ہے c. تیزی سے ٹکر سے بچ جاتا ہے d. آہستہ سے گاڑی کو روک سکتا ہے	d
227.	گاڑی کو ہمیشہ محفوظ... اور دوستانہ انداز میں چلانا چاہئے	a. مہذب b. تیز رفتار c. خود غرض d. اچھلنا	a
228.	جب اگلی گاڑی آہستہ ہوتی محسوس ہو تو	a. ڈرائیور دائیں طرف سے اوورٹیک کرے جب گاڑی سامنے سے پہنچے b. پہلے سے لین تبدیل کر لے اور اُس سے اوورٹیک کر لے c. ہارن دے d. فٹ پاتھ کو استعمال کر کے اوورٹیک کرے	b
229.	جب سامنے سے آنے والی گاڑی اپنی اسپید کم نہ کرے اور ڈرائیور اوورٹیک کرنا چاہے تو	a. مسلسل ہارن بجائے اور اپنی گاڑی کی سپید بڑھا دے تاکہ اوورٹیک کر سکے b. سپید بڑھا دے تاکہ اوورٹیک کر سکے c. اوورٹیک نہ کرے d. پیچھا کریں اور جب موقع ملے تو اوورٹیک کریں	c
230.	جب اوورٹیک کرنا چاہیں اور پتہ چلے کہ اگلی گاڑی بھی اوورٹیک کر رہی ہے تو ڈرائیور کو چاہئے --	a. پیچھے کرے اور جب موقع ملے تو اوورٹیک کرے b. سپید بڑھا دے زبردستی اوورٹیک کرے c. مسلسل ہارن بجائے اور اگلی گاڑی کو راستہ دینے پر مجبور کرے d. اوورٹیک نہ کرے اور سامنے والی گاڑی کو پہلے اورٹیک کرنے دے	d

231.	جب آگے روڈ پر زیادہ رش ہو تو ایسے حالات میں بہترین طریقہ یہ ہے کہ	<p>a. جوڑ کے پیچھا جاری رکھیں</p> <p>b. جگہ ڈھونڈے اور ایک کے بعد دوسری گاڑی کو اوورٹیک کرے</p> <p>c. ہارن بجائے تاکہ سامنے والی گاڑی کو اشارہ ملے کہ اپنی گاڑی کی سپیڈ بڑھائے۔</p> <p>d. روکیں اور اپنی لائن میں انتظار کریں</p>	d
232.	جب انٹرسیکشن میں رش پاؤ تو ایسے حالات میں ڈرست طریقہ یہ ہے کہ	<p>a. سپیڈ کم کریں اور روکیں تب تک جب رش ختم ہو جائے</p> <p>b. انٹرسیکشن میں داخل ہونا جاری رکھیں</p> <p>c. ہارن بجائیں تاکہ سامنے والی گاڑی کو اشارہ ملے کہ اپنی گاڑی کی سپیڈ بڑھائیں اور گزرنے دے</p> <p>d. موقع ڈھونڈے کہ اُسکو دونوں طرف سے گزرنے دیں</p>	a
233.	جب اگلی گاڑی اوورٹیک کرنے کے لئے جگہ نہ دے اور ڈرائیور اوورٹیک کرنا چاہے تو	<p>a. اچانک اوورٹیک کریں</p> <p>b. اوورٹیک کرنا چھوڑ دیں</p> <p>c. مسلسل ہارن دیں اور اوورٹیک کریں</p> <p>d. پیڈ لائیٹس آن کریں اور اوورٹیک کریں</p>	b
234.	جب زیادہ رش کیوجہ سے آہستہ روڈ پر جانا ہوا اور ایک گاڑی زبردستی کٹ لگائے تو	<p>a. ہارن بجائیں تاکہ وہ باخبر ہو</p> <p>b. سپیڈ بڑھا کر گاڑی کا نزدیکی سے پیچھا کریں اور اسکو اجازت نہ دے</p> <p>c. رضاکارانہ طور پر اُسکو جانے دیں تاکہ اپنے سفر کو محفوظ بنائے</p> <p>d. سپیڈ بڑھا کر گاڑی کا نزدیکی سے پیچھا کریں اور اسکو اجازت دیں</p>	c
235.	جب ڈرائیور گاڑی چلا رہا ہو تو اُس کو چاہیے کہ مسافروں کو کہے کہ گندگی _____ ڈالیں	<p>a. گاڑی کی کھڑکی سے باہر گلی میں</p> <p>b. بیابان روڈ پر</p> <p>c. گاڑی میں موجود کوڑا دان میں</p> <p>d. سیٹ کے نیچے یا گاڑی کے مخصوص حصے میں</p>	c
236.	جب دوسرے لوگوں کے ساتھ جھگڑا ہو تو ڈرائیور کو چاہیے کہ	<p>a. جب گاڑی چلا رہے ہو تو اپنے جذبات کو قابو میں رکھے</p> <p>b. جذبات میں گاڑی چلانے</p> <p>c. غصے میں گاڑی چلانے</p> <p>d. گاڑی چلانے سے پہلے حوصلہ رکھے</p>	a
237.	جب گاڑی چلانی ہو تو ڈرائیور کو چاہیے کہ اپنی رفتار بمطابق کے مطابق رکھے۔	<p>a. اُس کا تجربہ</p> <p>b. سپیڈ و میٹر کی ریڈنگ</p> <p>c. اُس کے احساسات</p> <p>d. روڈ کے سائینڈوں پر موجود چیزوں کے حوالہ سے</p>	b
238.	اگر گاڑی کے ڈرائیور کا ڈرائیونگ لائسنس گم ہوا ہو تو وہ گاڑی چلا سکتا ہے	<p>a. غلط</p> <p>b. ڈرست</p> <p>c. مجھے پتہ نہیں</p> <p>d. ان میں سے کوئی نہیں</p>	a
239.	لا ڈرائیور گاڑی نہیں چلا سکتا جب اُس کا ڈرائیونگ لائسنس قبضہ میں ہو	<p>a. ڈرست</p> <p>b. غلط</p>	a

		c. مجھے پتہ نہیں d. ان میں سے کوئی نہیں	
240.	جب روڈ پر تیز و آہستہ سپیڈ لین ہو تو آہستہ سپیڈ والی لین میں چلیں اور تیز سپیڈ والی لین صرف اوورٹیکنگ کے لئے استعمال کریں	a. دُرست b. غلط c. مجھے پتہ نہیں d. ان میں سے کوئی نہیں	a
241.	دی گئی تصویر میں کیا ہدایت یا معلومات دی گئی ہیں؟ 	a. رُکئے b. رُکنا منع ہے c. مجھے پتہ نہیں d. ان میں سے کوئی نہیں	a
242.	موٹر گاڑی کو اجازت نہیں ہے کہ جہاں سے مڑنا نشان کے ذریعے منع کیا گیا ہو، وہ نہ مڑیں	a. دُرست b. غلط c. مجھے پتہ نہیں d. ان میں سے کوئی نہیں	a
243.	کیا چڑھائی میں موٹر گاڑی مڑ سکتی ہے	a. غلط b. درست c. مجھے پتہ نہیں d. ان میں سے کوئی نہیں	a
244.	جب موٹر گاڑی ریورس کرنی ہو تو چاہئے کہ ایسا کرنے سے پہلے یقین کر لے کہ گاڑی کو ریورس کرنا محفوظ ہے	a. دُرست b. غلط c. مجھے پتہ نہیں d. ان میں سے کوئی نہیں	a
245.	انٹر سیکشن میں موٹر گاڑی کو ریورس کیا جاسکتا ہے	a. غلط b. درست c. مجھے پتہ نہیں d. ان میں سے کوئی نہیں	a
246.	ٹرائیور کو اجازت نہیں ہے کہ سرننگ میں گاڑی مڑیں	a. دُرست b. غلط c. مجھے پتہ نہیں d. ان میں سے کوئی نہیں	a
247.	موٹر گاڑی کو یکطرفہ روڈ پر ریورس کرنا	a. غلط b. درست c. مجھے پتہ نہیں d. ان میں سے کوئی نہیں	a
248.	جب روڈ پر موٹر گاڑی خراب ہو یا حادثہ ہوا ہو اور ٹریفک میں خلل کا سبب ہو اور آگے جانا بھی مشکل ہو تو گاڑی کے دونوں اشارے آن رکھیں	a. دُرست b. غلط c. مجھے پتہ نہیں d. ان میں سے کوئی نہیں	a
249.	جب تک دروازے دُرست طور پر بند نہ ہوں تو گاڑی کو نہ چلائیں	a. دُرست b. غلط c. مجھے پتہ نہیں d. ان میں سے کوئی نہیں	a

250.	چیزوں کو اگلے یا پچھلے کھڑکیوں کے پاس نہ لٹکائیں اور نہ رکھیں جس سے ڈرائیور کو کچھ نظر نہ آئے	a. درست b. غلط c. مجھے پتہ نہیں d. ان میں سے کوئی نہیں	a
251.	جب موٹر گاڑی ایک پُل سے گزر رہی ہو جہاں پانی کا بہاؤ تیز ہو تو ڈرائیور کو چاہئے کہ رُک کر حالات کو دیکھے اور آہستہ گزرے اور یہ یقینی بنائے کہ ایسا کرنا محفوظ ہے۔	a. درست b. غلط c. مجھے پتہ نہیں d. ان میں سے کوئی نہیں	a
252.	موٹر گاڑی کو آہستہ ہونا چاہیے اور پیدل اشخاص کو رہائشی جگہوں یا کارخانوں سے گزرنے دے	a. درست b. غلط c. مجھے پتہ نہیں d. ان میں سے کوئی نہیں	a
253.	موٹر گاڑی کو رہائشی جگہوں یا کارخانوں کے نزدیک نصب شدہ حد رفتار کے سائن بورڈ کے مطابق چلانی چاہئے	a. درست b. غلط c. مجھے پتہ نہیں d. ان میں سے کوئی نہیں	a
254.	موٹر گاڑی کے دروازے بند کرنے یا کھولنے سے ٹریفک میں اور پیدل اشخاص کو کوئی رُکاوٹ نہیں ہونی چاہئے	a. درست b. غلط c. مجھے پتہ نہیں d. ان میں سے کوئی نہیں	a
255.	چلتی گاڑی میں موجود لوگوں کو اجازت نہیں ہے کہ وہ اپنا سر گاڑی سے باہر نکالیں لیکن ہاتھ نکالنے کی اجازت ہے	a. غلط b. درست c. مجھے پتہ نہیں d. ان میں سے کوئی نہیں	a
256.	لوگ ایکسپریس وے پر گاڑی کو ٹیسٹ کر سکتے یا سیکھ سکتے ہیں	a. غلط b. درست c. مجھے پتہ نہیں d. ان میں سے کوئی نہیں	a
257.	جب موٹر گاڑی ایکسپریس وے پر چلتی ہو تو ہارڈ شولڈر سے اوورٹیک کر سکتی ہے	a. غلط b. درست c. مجھے پتہ نہیں d. ان میں سے کوئی نہیں	a
258.	ایکسپریس وے پر چلتی ہوئی موٹر گاڑی کو اجازت نہیں ہے کہ ریورس میں جائے یا مخالف سمت میں چلے یایوٹرن لے یا کیرج وے میں رُک جائے	a. درست b. غلط c. مجھے پتہ نہیں d. ان میں سے کوئی نہیں	a
259.	جب موٹر گاڑی ایکسپریس وے پر جارہی ہو تو ایمرجنسی لین میں بغیر ایمرجنسی کے رُک سکتی ہے	a. غلط b. درست c. مجھے پتہ نہیں d. ان میں سے کوئی نہیں	a
260.	کم رفتار یا زیادہ رفتار والی لین سے ایکسپریس وے پر اوورٹیک کرنے کی اجازت ہے	a. غلط b. درست c. مجھے پتہ نہیں d. ان میں سے کوئی نہیں	a

261.	جب موٹر گاڑی کا ڈرائیور حادثے کا باعث بنے اور وہ بھاگ جائے تو وہ حادثے میں ملوث نہیں ہے	a. غلط b. درست c. مجھے پتہ نہیں d. ان میں سے کوئی نہیں	a
262.	ٹریفک پولیس ایک گاڑی کو روک سکتی ہے اگر گاڑی کے کاغذات ، نمبر پلیٹ و لائسنس مشکوک ہو	a. درست b. غلط c. مجھے پتہ نہیں. d. ان میں سے کوئی نہیں	a
263.	جب سُرخ بتی آن ہو تو یہ گاڑیوں کو گزرنے کی اجازت دیتی ہے	a. غلط b. درست c. مجھے پتہ نہیں d. ان میں سے کوئی نہیں	a
264.	جب سبز بتی آن ہو تو یہ گاڑیوں کو گزرنے سے منع کرتی ہے	a. غلط b. درست c. مجھے پتہ نہیں d. ان میں سے کوئی نہیں	a
265.	جب پیلی بتی آن ہو تو یہ گاڑیوں کو گزرنے کی اجازت دیتی ہے	a. غلط b. درست c. مجھے پتہ نہیں d. ان میں سے کوئی نہیں	a
266.	جب سُرخ " شکل کی لائٹ آن ہو یہ اجازت دیتی ہے کہ گاڑیاں اس لین سے گزریں	a. غلط b. درست c. مجھے پتہ نہیں d. ان میں سے کوئی نہیں	a
267.	جب سُرخ تیر شکل کی لائٹ آن ہو یہ منع کرتی ہے کہ گاڑیاں اس لین سے گزریں	a. درست b. غلط c. مجھے پتہ نہیں d. ان میں سے کوئی نہیں	a
268.	جب سُرخ تیر کا اشارہ بائیں طرف نشاندہی کرے، یہ اجازت دیتا ہے کہ گاڑیاں بائیں طرف مڑیں	a. غلط b. درست c. مجھے پتہ نہیں d. ان میں سے کوئی نہیں	a
269.	جب سبز تیر کا نشان سیدھی طرف نشاندہی کرے، یہ اجازت دیتا ہے کہ گاڑیاں سیدھی جائیں	a. درست b. غلط c. مجھے پتہ نہیں d. ان میں سے کوئی نہیں	a
270.	جب سبز تیر کا نشان دائیں طرف نشاندہی کرے، یہ اجازت دیتا ہے کہ گاڑیاں دائیں طرف مڑیں	a. درست b. غلط c. مجھے پتہ نہیں d. ان میں سے کوئی نہیں	a
271.	جب سُرخ تیر کا نشان دائیں طرف نشاندہی کرے، یہ اجازت دیتا ہے کہ گاڑیاں دائیں طرف مڑیں	a. غلط b. درست c. مجھے پتہ نہیں d. ان میں سے کوئی نہیں	a

272.	جب سبز تیر کا نشان بائیں طرف نشاندہی کرے، یہ اجازت دیتا ہے کہ گاڑیاں سیدھی جائیں	a. غلط b. درست c. مجھے پتہ نہیں d. ان میں سے کوئی نہیں	a
273.	مسلسل جلتے بجھتے پیلی انتہائی اشارہ ہے جس کا مطلب ہے کہ ڈرائیور دیکھے اور یہ یقینی بنائے کہ وہ حفاظت سے دوسری گاڑیوں سے گزر سکتا ہے	a. درست b. غلط c. مجھے پتہ نہیں d. ان میں سے کوئی نہیں	a
274.	تیز ہوا چلتی گاڑی کو اپنے راستے سے ہٹانے کا باعث بن سکتی ہے	a. درست b. غلط c. مجھے پتہ نہیں d. ان میں سے کوئی نہیں	a
275.	جب ڈرائیور رات کو ڈرائیونگ کرتا ہے تو مخالف سمت سے آنے والی گاڑی کی تیز روشنی کیوجہ سے کچھ وقت کے لئے روڈ کی حالت سے باخبر رہتا ہے	a. غلط b. درست c. مجھے پتہ نہیں d. ان میں سے کوئی نہیں	a
276.	ڈرائیونگ کرتے ہوئے ڈرائیور کو چاہیے کہ روڈ سیفٹی سے متعلق قانون پر عمل پیرا رہے۔	a. درست b. غلط c. مجھے پتہ نہیں d. ان میں سے کوئی نہیں	a
277.	جب ڈرائیور گاڑی چلاتا ہے تو ڈرائیور کو چاہیے کہ مقررہ رفتار سے 10 فی صد رفتار بڑھائے۔	a. غلط b. درست c. مجھے پتہ نہیں d. ان میں سے کوئی نہیں	a
278.	ڈرائیور کو دوران ڈرائیونگ محفوظ حد رفتار کو ملحوظ خاطر رکھنا چاہیے	a. درست b. غلط c. مجھے پتہ نہیں d. ان میں سے کوئی نہیں	a
279.	نارمل ڈرائیونگ میں ڈرائیور کو سینٹرل لائن پر گاڑی چلانی چاہیے تاکہ مخالف سمت سے کوئی گاڑی اوورٹیک نہ کر سکے	a. غلط b. درست c. مجھے پتہ نہیں d. ان میں سے کوئی نہیں	a
280.	کیا ڈرائیور کا دوران ڈرائیونگ موبائل فون کا استعمال غیر قانونی ہے؟	a. درست b. غلط c. مجھے پتہ نہیں d. ان میں سے کوئی نہیں	a
281.	جب سڑک پر زکاوٹ موجود ہو تو ڈرائیور کو چاہیے کہ اتنی تیزی سے گزرے کہ جلد از جلد زکاوٹ عبور کریں	a. غلط b. درست c. مجھے پتہ نہیں d. ان میں سے کوئی نہیں	a
282.	اگر کوئی دوسرا ڈرائیور مدد طلب کرے تو اس ڈرائیور کی بروقت مدد کرنی چاہیے	a. درست b. غلط c. مجھے پتہ نہیں d. ان میں سے کوئی نہیں	a

283.	اگر سڑک پر حادثہ مل جائے تو جلد سے جلد بو ٹرن لے کر نکل جان چاہیے اور زخمیوں کی مدد و طبی امداد نہیں کرنی چاہیے	a. غلط b. درست c. مجھے پتہ نہیں d. ان میں سے کوئی نہیں	a
284.	محفوظ ڈرائیونگ کے تین سنہری اصول توجہ، محتاط اندازہ اور قبل از وقت احتیاط	a. درست b. غلط c. مجھے پتہ نہیں d. ان میں سے کوئی نہیں	a
285.	اگر چوک پر ٹریفک زیادہ ہو تو ڈرائیور کو صبر و تحمل کیساتھ انتظار کرنا چاہیے نہ کہ نکلنے کا موقع ڈھونڈے	a. درست b. غلط c. مجھے پتہ نہیں d. ان میں سے کوئی نہیں	a
286.	کیا ڈرائیونگ کے دوران ڈرائیور کھڑکی سے باہر تھوک سکتا ہے؟	a. غلط b. درست c. مجھے پتہ نہیں d. ان میں سے کوئی نہیں	a
287.	اگر SILENCE ZONE سے گزرتے وقت اگر کوئی پیدل چلنے والا سامنے آ جائے تو بارن دیکر اُس کی توجہ مبذول کرانی چاہیے	a. غلط b. درست c. مجھے پتہ نہیں d. ان میں سے کوئی نہیں	a
288.	اگر ڈرائیور کے پیچھے کو کوئی گاڑی نہ ہو تو وہ بغیر انڈیکیٹر دیئے لین تبدیل کر سکتا ہے	a. غلط b. درست c. مجھے پتہ نہیں d. ان میں سے کوئی نہیں	a
289.	کیا خاتون ڈرائیور کے لئے اونچی ایڑھی والی جوتی پہن کر ڈرائیونگ کرنا غیر محفوظ ہے	a. درست b. غلط c. مجھے پتہ نہیں d. ان میں سے کوئی نہیں	a
290.	ڈرائیور کا غلط طریقہ یہ ہے کہ اپنا بازو کھڑکی پر رکھ لینا یا پھر گیر لیور کو زیادہ دیر تک بائیں ہاتھ سے تھامے رکھنا	a. درست b. غلط c. مجھے پتہ نہیں d. ان میں سے کوئی نہیں	a
291.	تمباکو نوشی محفوظ ڈرائیونگ پر اثر انداز نہیں ہوتی	a. غلط b. درست c. مجھے پتہ نہیں d. ان میں سے کوئی نہیں	a
292.	کثرت سے لین تبدیل کرنا ڈرائیور کی بُری عادت نہیں ہے	a. غلط b. درست c. مجھے پتہ نہیں d. ان میں سے کوئی نہیں	a
293.	تنگ سڑک پر ایک دوسرے کو کراس کرتے وقت ڈرائیور آہستہ ہو جائے اور دوسرے کو گزرنے دے	a. درست b. غلط c. مجھے پتہ نہیں d. ان میں سے کوئی نہیں	a

294.	اگر سڑک پر رکاوٹ ہو اور ڈرائیور اُس کو کراس کرنا چاہے مگر مخالف سمت سے گاڑی آ جائے تو	<p>a. رُک جائے اور رفتار کم کرے اور مخالف سمت سے آنے والی گاڑی کو راستہ دیں</p> <p>b. رفتار بڑھا لے اور رُکاوٹ کو کراس کر لے</p> <p>c. ہارن دے اور کراس کرے</p> <p>d. جلدی سے لین میں آ جائے اور مخالف سمت والی گاڑی کو مجبور کرے کہ آپ کو گزرنے دیں</p>	a
295.	لین تبدیلی کے وقت	<p>a. ایک سیکنڈ کے لیے انڈیکیٹر آن کریں</p> <p>b. دایاں انڈیکیٹر تین سیکنڈ پہلے آن کر لے تاکہ اُسے پتہ چل جائے کہ وہ لین تبدیل کرنا چاہ رہا ہے</p> <p>c. پہلے ہی سے انڈیکیٹر دینے کی ضرورت نہیں ہے</p> <p>d. ٹریفک حالات کو دیکھ کر مڑنے کا اشارہ لگا سکتے ہیں</p>	b
296.	چوک سے پہلے لین تبدیل کرنے پر ڈرائیور کو لازم ہے کہ	<p>a. چوک سے پہلے لائن شدہ</p> <p>b. چوک میں لائن شدہ</p> <p>c. مقام جسکی نشاندہی لین سے ہوئی ہو اور سمت واضح ہو</p> <p>d. چوک میں سٹاپ لائن سے پہلے</p>	c
297.	جب ڈرائیور بائیں لین تبدیل کرنا چاہ رہا ہو اور ایسا کرنٹریفک میں رُکاوٹ کا باعث نہ ہو تو	<p>a. ڈبل انڈیکیٹر آن کرے</p> <p>b. مڑنے والا اشارے آن کرے</p> <p>c. ہاتھ کا اشارہ دے</p> <p>d. بائیں طرف مڑنے کا اشارہ آن کرے</p>	d
298.	جب ڈرائیور موٹروے پر داخل ہونے والا ہو اور وہ محسوس کرے کہ اُس کے پیچھے کافی تعداد میں گاڑیاں آ رہی ہیں تو اُس کو چاہیے کہ	<p>a. پچھلی گاڑیوں کو ہاتھ کے اشارے دے کہ اُس کو راستہ دیں</p> <p>b. رفتار بڑھا کر داخل ہو جائے</p> <p>c. دایاں مڑے اور سیدھا موٹروے میں داخل ہو جائے</p> <p>d. آگے آہستہ جائے اور انتظار کرے اور موقع ملنے پر موٹروے پر داخل ہو جائے</p>	d
299.	عام سڑک پر یو ٹرن لینے کے لئے ریورس کرتے وقت ڈرائیور کو لازم ہے کہ	<p>a. ایسی جگہ جہاں بھاری ٹریفک ہو</p> <p>b. ایسی جگہ جہاں روڈ تنگ ہو</p> <p>c. ایسی جگہ سے جہاں پیدل اشخاص کافی ہو</p> <p>d. وہ مقام جہاں پر ٹریفک کا بہاؤ متاثر نہ ہو</p>	d
300.	غیر ہموار مقام پر آنے والی گاڑی کو کراسنگ سے پہلے ڈرائیور کو فی الفور	<p>a. رفتار بڑھا کر ہموار مقام کو منتخب کریں</p> <p>b. رفتار کم کر کے ایک دوسرے کو کراس کرے یا رُک کر راستہ دے</p> <p>c. دایاں لین کو پکڑ کے رکھے اور مخالف سمت سے آنیوالی گاڑی کو دباؤ ڈالے کہ وہ رفتار آہستہ کرے</p> <p>d. ہیڈ لائٹس آن کریں تاکہ مخالف سمت والی گاڑی کو پتہ چلے کہ رُکے اور گزرنے دو</p>	b
301.	اگر اوورٹیک کرنے والی گاڑی کے پاس اوورٹیکنگ کی جگہ نہ ہو تو ڈرائیور پر لازمی ہے کہ	<p>a. آزادانہ طور پر اوورٹیکنگ سے باز رہے</p> <p>b. دباؤ ڈال کر اوورٹیک کرے</p> <p>c. ہارن دے اور اگلی گاڑی کو ایک طرف کر دے</p> <p>d. احتیاط سے اوورٹیک کرے</p>	a
302.	جب گاڑی ایک خطرناک موڑ پر پہنچے تو ڈرائیور کو لازم ہے کہ	<p>a. آگے جائے اور مخالف لین اپنالے</p> <p>b. اچانک بریک لگائے اور آہستہ جائے</p> <p>c. موڑ کے باہر والی طرف چلے</p>	d

		d. پوری طرح رفتار کم کر دے اور بائیں جانب چلے	
303.	اگر کوئی دوسری گاڑی مخالف سمت سے نہ آرہی ہو تو گاڑی کے ڈرائیور کو جب وہ پہاڑی سڑک پر موڑ میں داخل ہو تو اس سے پہلے	a. لازمی رفتار کم کریں، بارن دے اور سڑک کے بائیں جانب چلے b. لازمی طور پر روڈ کے باہر جانب چلے c. مخالف لین میں چلا جائے d. ان میں سے کوئی نہیں	a
304.	بغیر پھاٹک کے ریلوے کراسنگ سے گزرتے وقت ڈرائیور لازمی -----	a. رفتار بڑھا کر گزر جائے b. رفتار کم کر کے گزر جائے c. سپیڈ برقرار رکھے اور گزر جائے d. رُکے، دیکھے اور گزر جائے	d
305.	گول چکر سے نکلنے سے پہلے ڈرائیور لازمی	a. بائیں انڈیکیٹر دے b. ڈبل انڈیکیٹر c. دایاں انڈیکیٹر d. بیڈ لائٹس	a
306.	جب جانوروں سے کھینچی جانی والی گاڑی ایک رُکی ہوئی گاڑی کو کراس کرنے لگے تو ڈرائیور لازمی	a. بارن دے کر راستہ لے گا b. اُن کو پہلے گزرنے دیگا c. رفتار بڑھا کر گزرے گا d. اُسکا پیچھا کریگا اور بارن دیگا	b
307.	بھیڑوں کا ریوڑ جب سڑک سے گزر رہا ہو تو ڈرائیور	a. مسلسل بارن دے کر ریوڑ کو ایک طرف کریگا b. رفتار بڑھا کر گزر جائے c. آہستہ چلے گا اور ریوڑ کا ڈرا کر ایک طرف کریگا d. رفتار آہستہ کر کے گزرے گا یا رُک کر اُن کو گزرنے دے گا	d
308.	جب ڈرائیور کو جانوروں کے گزرنے کا احساس ہو تو	a. آزادانہ طور پر رفتار کم کریں یا رُک کر راستہ دیں b. بارن دے کر دور کریگا c. رفتار بڑھا کر گزر جائے گا d. سپیڈ کم کر کے گاڑی سے اُن کو دور کریگا	a
309.	جب ایک ایمبولینس تیزی سے ایک ہی لین میں مخالف سمت سے آرہی ہو تو ڈرائیور پر لازم ہے کہ	a. روڈ سے سائیڈ پر ہو کر رفتار کم کر کے یا رُک کر راستہ دے گا b. دوسری لین میں ڈرا نھر کریگا c. رفتار بڑھا کر صورتحال سے پیچھا چھڑائے گا۔ d. اپنی لین میں رہ کر چلتا جائے گا	a
310.	ایسے پیدل اشخاص ملنے کی صورت میں جو کہ موبائل فون پر بات کر رہے ہو تو ڈرائیور پر لازمی	a. اُن کے پاس پہنچ کر بارن دیگا b. رفتار بڑھا کر اُن کو کراس کریگا۔ c. اپنی سپیڈ میں رہے گا d. سپیڈ کم کریگا اور بارن دے کر اُن کی توجہ حاصل کریگا	d
311.	بچوں کو سڑک پر گزرتا دیکھ کر ڈرائیور لازمی	a. بارن دے کر توجہ حاصل کریگا b. رفتار کم کریگا آہستہ گزرے گا یا رُک کر راستہ دے گا c. ایک سائیڈ سے تیزی سے گزر جائے گا d. رفتار بڑھا ے گا اور گزرے گا	b

312.	اسکول کے بچوں کو لائن بنا کر روڈ کراس کرتے وقت ڈرائیور	a. رفتار بڑھا کر دباؤ ڈال کر گزرے b. رُک کر راستہ دیں c. رفتار کم کر کے آہستہ گزرے d. مسلسل ہارن دے	b
313.	بزرگ شہری جب سڑک پر ملے تو ڈرائیور لازمی	a. پہلے رفتار بڑھا کر گزرے b. پیچھے سے گزرے c. طریقے کے ساتھ سپیڈ کم کر کے ہارن دے d. مسلسل ہارن دے کراس کو خبردار کریں	c
314.	ناہینا افراد کے روڈ پر ہونے پر ڈرائیور لازمی	a. ہارن دے کر راستہ دیں b. تیزی سے گزر جائے c. پیچھا کریں d. رفتار کم کر کے ہارن دیں	d
315.	غیر ہموار سڑک سے گزرتے وقت ڈرائیور لازمی	a. نہایت آہستہ ہو کر گزرے b. رفتار بڑھا کر گزرے c. نیوٹرل کر کے گزرے d. اپنی سپیڈ میں گزرے	a
316.	نوجوان موٹر سائیکل سواروں کو کراس کرتے وقت ڈرائیور لازمی	a. تیزی سے گزر جائے b. مناسب رفتار میں چلے c. پہلے رفتار کم کر لے آہستہ جائے یا اگر ضروری ہو تو رُک جائے d. مسلسل ہارن دیں	c
317.	جب مخالف سمت سے موٹر سائیکل آ رہا ہو تو ڈرائیور لازمی	a. موٹر سائیکل سوار کو گزرنے دیں b. ان کا مشاہدہ کریں، رفتار کم کریں اور آہستہ گزرنے کے ساتھ ہی محفوظ درمیانی فاصلہ رکھے c. مسلسل اُسے ہارن دے تاکہ اُسکو یاد پانی کروا کے گزرے d. مسلسل اُسے ہارن دے اور سپیڈ بڑھا کر اوٹیک کریں	b
318.	جب مخالف سمت سے موٹر سائیکل آ رہا ہو تو ڈرائیور لازمی	a. ڈپر دے/اُن رکھے b. مسلسل ہارن بجائے c. تیز بیڈ لاینٹس استعمال کرے d. ہلکی لاینٹ استعمال کرے، رفتار کم کرے یا رُک کر اُس کو گزرنے دے	d
319.	جانوروں سے کھینچی جانوالی گاڑی اگر روڈ پر مل جائے تو ڈرائیور لازمی	a. اچانک رفتار بڑھا کر گزر جائے b. جب قریب پہنچے تو ہارن دے c. مناسب فاصلے سے ہارن دے اور رفتار پہلے سے کم کر لے d. نزدیک سے پیچھا کرے	c
320.	اگر چوک پر ایک گاڑی کے رائٹ آف وے کی خلاف ورزی اگلی گاڑی اُس کے آگے اچانک آ کر کرتی ہے تو	a. رفتار بڑھا کر کراس کریں b. پہلے ہی سے رفتار بڑھا دیں اور اُس کو کراس کر لے c. اپنی سپیڈ میں آگے جائے اور اپنے حق کے مطابق راستہ نہ دیں d. رفتار کم کریں اُسے گزرنے دیں یا اگر ضروری	d

		ہو تو رُک کر راستہ دیں	
321.	اگر گاڑی عارضی طور پر روڈ کے سائیڈ پر رُکی ہو تو ڈرائیور	a. گاڑی کو مخالف سمت میں روک لے b. ایک دوسرے کے برابر روک لے c. مخالف سمت یا برابر گاڑی کرنے کی اجازت نہیں ہے d. اُس وقت تک رُک سکتے ہیں جب تک اُس کلا جانا مناسب ہو	c
322.	دوران بارش عارضی طور پر گاڑی روکنے کی صورت میں ڈرائیور لازمی اُن کریگا	a. ہیڈ لائٹس اور پچھلی فوگ لائٹس b. ڈبل انڈیکیٹر c. فُل ہیڈ لائٹس d. ریورس لائٹس	b
323.	دوران ژالا باری عارضی طور پر گاڑی روکنے کی صورت میں ڈرائیور لازمی اُن کریگا	a. اگلے و پچھلے فوگ لائٹس b. ریورس لائٹس c. فُل ہیڈ لائٹس d. ڈبل انڈیکیٹر	d
324.	رات کی ڈرائیونگ میں اگر مخالف سمت سے آنے والی گاڑی ہیڈ لائٹس مدہم نہ کرے تو	a. اپنی رفتار میں رہے b. رفتار بڑھائے اور لائٹ نظر انداز کریں c. رفتار کم کرے یا رُکے تاکہ وہ گزر جائے d. آپ بھی ہیڈ لائٹس اُن کریں	c
325.	دوران بارش جب پیدل شخص چھتری یا ریفلکٹنگ کوٹ پہنے روڈ کے ساتھ جا رہا ہو تو ڈرائیور کو لازم ہے کہ	a. اپنی رفتار میں رہے b. مسلسل ہارن دے کہ اُس کو گزرنے کا اشارہ دے c. رفتار بڑھا دے اور گزرے d. پہلے ہی ہارن دے اور طریقہ کے ساتھ رفتار کم کرے	d
326.	لین تبدیلی کے وقت ڈرائیور پہلے اشارہ لگاتے وقت ٹریفک کی صورتحال دیکھے محفوظ درمیانی فاصلہ رکھے اور نئی لین میں آ جائے	a. دُرست b. غلط c. مجھے پتہ نہیں d. ان میں سے کوئی نہیں	a
327.	دائیں لین میں تبدیلی کے وقت ڈرائیور پہلے دایاں اشارہ لگا کر ٹریفک کی صورتحال دیکھے محفوظ درمیانی فاصلہ رکھے اور دائیں لین میں آ جائے	a. دُرست b. غلط c. مجھے پتہ نہیں d. ان میں سے کوئی نہیں	a
328.	جب گاڑی لین تبدیل کرے تو نئی لین میں ڈرائیور کو آنے سے پہلے چاہئے کہ اچانک مڑنے سے پہلے مڑنے والا اشارہ لگائے	a. دُرست b. غلط c. مجھے پتہ نہیں d. ان میں سے کوئی نہیں	a
329.	زیبرا کراسنگ کے نزدیک پیدل اشخاص کو راستہ دینا چاہیے	a. دُرست b. غلط c. مجھے پتہ نہیں d. ان میں سے کوئی نہیں	a
330.	عارضی رُکنے کے بعد دوبارہ چلنے پر ڈرائیور ہارن دے کر دوسری گاڑی کو متنبہ کریگا	a. غلط b. دُرست c. مجھے پتہ نہیں d. ان میں سے کوئی نہیں	a

331.	ڈرائیور گاڑی اسٹارٹ کرنے کے بعد چلنے سے پہلے ٹریفک کو دیکھے گا	a. دُرست b. غلط c. مجھے پتہ نہیں d. ان میں سے کوئی نہیں	a
332.	ڈرائیور گاڑی اسٹارٹ کرنے کے بعد اُس کی رفتار بڑھائے گا اور یکدم دابیں لین میں آجائے گا	a. غلط b. دُرست c. مجھے پتہ نہیں d. ان میں سے کوئی نہیں	a
333.	ڈرائیور گاڑی اسٹارٹ کرنے کے بعد چلانے سے پہلے ٹریفک کو دیکھے گا	a. دُرست b. غلط c. مجھے پتہ نہیں d. ان میں سے کوئی نہیں	a
334.	ریورس کرنے سے پہلے ڈرائیور لازمی طور پر چلے، اہستہ ہو، سڑک پر دونوں جانب سے آنے والی ٹریفک کا مشاہدہ کرے اور کسی بھی وقت رُکنا پڑے تو رُک جائے	a. دُرست b. غلط c. مجھے پتہ نہیں d. ان میں سے کوئی نہیں	a
335.	ریورس کے دوران ڈرائیور لازمی رفتار بڑھا دے اور مکمل ریورس کرے اگر گاڑی کے پیچھے سڑک کی صورتحال بہتر ہو۔	a. غلط b. دُرست c. مجھے پتہ نہیں d. ان میں سے کوئی نہیں	a
336.	اوورٹیکنگ کے دوران اگر مخالف سمت سے گاڑی آجائے تو ڈرائیور پہلے سے رفتار بڑھا کر اوورٹیک کر لے	a. غلط b. دُرست c. مجھے پتہ نہیں d. ان میں سے کوئی نہیں	a
337.	سُرنگ سے گزرتے ہوئے گاڑی کو اوورٹیکنگ منع ہے	a. دُرست b. غلط c. مجھے پتہ نہیں d. ان میں سے کوئی نہیں	a
338.	ریلوے کراسنگ سے گزرتے ہوئے اوورٹیکنگ منع ہے	a. دُرست b. غلط c. مجھے پتہ نہیں d. ان میں سے کوئی نہیں	a
339.	خطرناک موڑ پر اگر گاڑیاں کم ہو تو اوورٹیکنگ کی اجازت ہے	a. غلط b. دُرست c. مجھے پتہ نہیں d. ان میں سے کوئی نہیں	a
340.	جب اگلی گاڑی یو ٹرن لے رہی ہو تو ڈرائیور لازمی طور پر تیزی سے اوورٹیک کر لے جب وہ رُک رہی ہو یا گینر تبدیل کر رہی ہو	a. غلط b. دُرست c. مجھے پتہ نہیں d. ان میں سے کوئی نہیں	a
341.	جب اگلی گاڑی اوورٹیک کر رہی ہو تو ڈرائیور لازمی طور پر رفتار بڑھا کر اُسے ایسا کرنے سے روک دے	a. غلط b. دُرست c. مجھے پتہ نہیں d. ان میں سے کوئی نہیں	a

342.	چوک میں داخل ہونے سے پہلے ڈرائیور رفتار کم کرے دیکھے اور جب ایسا کرنا محفوظ ہو تو کرے	a. درست b. غلط c. مجھے پتہ نہیں d. ان میں سے کوئی نہیں	a
343.	ریلوے کراسنگ سے گزرتے وقت اگر رش ہو تو گاڑیاں ایک دوسرے کو کراس نہ کریں یہاں تک کہ اگر ٹریفک اشارہ انہیں ایسا کرنے کی اجازت بھی دے	a. درست b. غلط c. مجھے پتہ نہیں d. ان میں سے کوئی نہیں	a
344.	بغیر ریلوے کے پھاٹک سے گزرتے ہوئے ڈرائیور رفتار بڑھائے اور گزر جائے اگر ٹرین نہ آ رہی ہو	a. غلط b. درست c. مجھے پتہ نہیں d. ان میں سے کوئی نہیں	a
345.	گول چکر میں داخل ہوتے ہوئے ڈرائیور لازمی طور پر دایاں اشارہ لگا ئے	a. غلط b. درست c. مجھے پتہ نہیں d. ان میں سے کوئی نہیں	a
346.	اگر پیدل اشخاص اچانک سڑک پر آ جائیں تو ڈرائیور رفتار کم کریگا اور انہیں روڈ کراس کرنے دیگا۔	a. درست b. غلط c. مجھے پتہ نہیں d. ان میں سے کوئی نہیں	a
347.	جب ایسے لوگ جو اپنے کندھوں پر سامان جن میں کھمبے یا زرعی سامان ہو تو ڈرائیور لازمی طور پر انکی حرکات پر نظر رکھے گارفتار مناسب رکھے گا اور ان سے محفوظ فاصلہ رکھے گا	a. درست b. غلط c. مجھے پتہ نہیں d. ان میں سے کوئی نہیں	a
348.	پیدل اشخاص اگر ٹریفک قوانین کی خلاف ورزی کریں تو گاڑیاں انہیں ایسا نہیں کرنے دیں گی	a. غلط b. درست c. مجھے پتہ نہیں d. ان میں سے کوئی نہیں	a
349.	اگر سبز بتی چوک پر جل رہی ہو تو گاڑیاں بغیر موٹر گاڑیوں کو اگر وہ ان کے آگے آ جائیں تو راستہ نہیں دیں گی	a. غلط b. درست c. مجھے پتہ نہیں d. ان میں سے کوئی نہیں	a
350.	اگر اچانک جانور سڑک پر آ جائے تو ڈرائیور اُسے گذرنے دے اگر سواریوں اور سامان کے لئے کوئی خطرہ نہ ہو	a. درست b. غلط c. مجھے پتہ نہیں d. ان میں سے کوئی نہیں	a
351.	جب جانور روڈ کو کراس کرتے ہوئے ٹریفک میں رُکاوٹ کا سبب بنے تو ڈرائیور مسلسل ہارن دے کر اُسے ڈرائے	a. غلط b. درست c. مجھے پتہ نہیں d. ان میں سے کوئی نہیں	a
352.	جب اگلی گاڑی غیر محفوظ طریقے سے جا رہی ہو تو ڈرائیور آزادانہ طور پر اُسے راستہ دے تاکہ روڈ حادثے سے بچ سکے	a. درست b. غلط c. مجھے پتہ نہیں d. ان میں سے کوئی نہیں	a

353.	جب پیدل اشخاص دانستہ طور پر گاڑی کو راستہ نہ دیں تو ڈرائیور مسلسل ہارن دے اور راستہ لے	a. غلط b. درست c. مجھے پتہ نہیں d. ان میں سے کوئی نہیں	a
354.	جب گاڑی زیادہ دیر تک روکنا مقصود ہو تو ڈرائیور لازمی طور پر کار پارکنگ میں رُکے	a. درست b. غلط c. مجھے پتہ نہیں d. ان میں سے کوئی نہیں	a
355.	ایسی موٹروے جو کہ تین لین پر مشتمل ہو اور ایک ہی سمت میں لین ہو ں تو وہ گاڑی جس کی رفتار 90 تا 110 کلومیٹر فی گھنٹہ ہو اس لین میں چلے	a. انتہائی بائیں لین b. درمیانی لین c. انتہائی دائیں لین d. کسی بھی لین	b
356.	جب ایک گاڑی موٹروے پر 100 کلو میٹر فی گھنٹہ کی رفتار سے جا رہی ہو تو اگلی گاڑی سے اُسکا محفوظ درمیانی فاصلہ یہ ہوگا	a. میٹر 50 b. میٹر 100 c. میٹر 110 d. میٹر 120	a
357.	موٹروے پر اگر سفر کرتے ہوئے ڈرائیور خروج سے نکلنا بھول جائے تو لازمی طور پہ	a. ریورس کر کے اصل مقام پر اُنے b. مسلسل آگے جائے اور اگلے خروج سے نکل جائے c. اچانک رُک جائے d. یوٹرن لے	b
358.	ایکسپریس وے پر رفتار کم کرنے والی لین میں داخل ہونے پر ڈرائیور اشارہ بند کر کے رفتار آہستہ کر تے ہوئے سپیڈومیٹر دیکھے گا ہارڈ شولڈر پر داخلے سے پہلے	a. مخصوص نشان کے مطابق رفتار b. 80 کلومیٹر فی گھنٹہ c. 60 کلومیٹر فی گھنٹہ d. 40 کلومیٹر فی گھنٹہ	a
359.	موٹروے پر حادثے کیوجہ سے پیدا ہونی والی رُکاوٹ پر گاڑیاں انتہائی بائیں جانب ہارڈ شولڈر پر سفر کر سکتی ہیں	a. غلط b. درست c. مجھے پتہ نہیں d. ان میں سے کوئی نہیں	a
360.	پہاڑی راستے پر اگلی گاڑی سے لازمی	a. اگلی گاڑی سے کم فاصلہ رکھے b. محفوظ درمیانی فاصلہ بڑھا لے c. محفوظ درمیانی فاصلے کو کم کر لے d. موقع ملے تو اوورٹیک کر لے	b
361.	اُترتی ہوئی سڑک کے درمیان رُکتے ہوئے بریک پیڈل لازمی طور پر دبائے	a. ہموار سڑک سے پہلے b. ہموار سڑک کے بعد c. ہموار سڑک سے ملتے وقت d. ہموار سڑک سے تیزی سے	a
362.	اُترتی ہوئی سڑک پر مسلسل بریک کا استعمال	a. انجن کی عمر کو کم کرتا ہے b. ڈرائیور کی محنت کو بڑھا دے c. بریک کے گرم ہونے سے بریک لگانے کی طاقت کم ہو جاتی ہے d. گاڑی اچانک الٹ سکتی ہے	c
363.	اُترتی ہوئی سڑک پر جاتے ہوئے ڈرائیور رفتار کو گیزر تبدیل کر کے کنٹرول کریگا	a. درست b. غلط c. مجھے پتہ نہیں	a

		d. ان میں سے کوئی نہیں	
364.	چڑھائی پر چڑھتے ہوئے ڈرائیور پہلے ہی سے چھوٹے گیروں میں گاڑی چڑھائے گا تاکہ گاڑی کا تسلسل نہ ٹوٹے	a. درست b. غلط c. مجھے پتہ نہیں d. ان میں سے کوئی نہیں	a
365.	خطرناک پہاڑی راستے سے گزرتے وقت ڈرائیور احتیاط کرے اور نہ رُکے	a. درست b. غلط c. مجھے پتہ نہیں d. ان میں سے کوئی نہیں	a
366.	دو طرفہ سرنگ میں داخلے کی صورت میں ڈرائیور لازمی	a. ڈبل اشارہ b. فل لائٹ c. فوگ لائٹ d. مدہم بیڈ لائٹ	d
367.	ایسی سڑک جہاں پر روشنی کا انتظام نہ ہو تو ڈرائیور اور وہ روشنی لازمی 30 میٹر تک پڑے اگر ڈرائیور 30 کلو میٹر فی گھنٹہ کی رفتار سے گاڑی چلا رہا ہو	a. مدہم بیڈ لائٹ b. فل لائٹ c. فوگ لائٹ d. ڈبل اشارہ	a
368.	ایسی سڑک جہاں روشنی کا خوب انتظام ہو تو ڈرائیور لازمی طور پہ	a. فوگ لائٹ b. مدہم بیڈ لائٹ c. فل لائٹ d. ڈبل اشارہ	b
369.	رات کو اوورٹیکنگ کے وقت سامنے سے آنے والی گاڑیوں کی بیڈ لائٹس کو براہ راست دیکھنے سے نظر متاثر ہو جاتی ہے	a. دائیں طرف دیکھے اور سیدھا کم رفتار پر جائے b. بائیں طرف دیکھے اور سیدھا کم رفتار پر جائے c. دائیں طرف دیکھے اور کم رفتار پر جائے d. بائیں طرف دیکھے اور زیادہ رفتار پر جائے	b
370.	جب بغیر موٹر گاڑی کو تنگ سڑک یا پل پر سے کراس کر رہے ہو تو ڈرائیور لازمی استعمال کرے گا	a. فل لائٹ b. مدہم بیڈ لائٹ c. ڈبل اشارہ d. فوگ لائٹ	b
371.	دن کی نسبت رات کی ڈرائیونگ مشکل ہوتی ہے کیونکہ ڈرائیور کی حینگاہ کم ہو جاتی ہے	a. درست b. غلط c. مجھے پتہ نہیں d. ان میں سے کوئی نہیں	a
372.	رات کی ڈرائیونگ سے ڈرائیور کو تھکاوٹ نہیں ہوتی	a. غلط b. درست c. مجھے پتہ نہیں d. ان میں سے کوئی نہیں	a
373.	رات کے ڈرائیونگ کے دوران ڈرائیور لازمی رفتار بڑھا کر دوسری گاڑی کو کراس کر لے اگر مخالف سمت سے آنے والی گاڑی بیڈ لائٹس مدہم نہ کرے	a. غلط b. درست c. مجھے پتہ نہیں d. ان میں سے کوئی نہیں	a
374.	رات کو ڈرائیونگ کے دوران ڈرائیور لازمی رفتار کم کرے اگر مخالف سمت سے آنے والی گاڑی بیڈ لائٹس مدہم نہ کرے	a. درست b. غلط c. مجھے پتہ نہیں	a

		d. ان میں سے کوئی نہیں	
375.	برف والی سڑک پر ایک دوسرے کو کراس کرتے وقت ڈرائیور لازمی طور پر اور مضبوطی سے سٹیئرنگ کو تھامے گا اور آہستہ سے کراس کریگا	a. پہنچنے پر رفتار آہستہ کریگا b. رفتار بڑھا لے گا c. پہلے سے رفتار کم کریگا d. رفتار برقرار رکھے گا	c
376.	ایسے پہاڑی راستے پر جو کہ برف اور برفیاری سے ڈھکا ہو ڈرائیونگ کے وقت پچھلی گاڑی اگلی گاڑی سے جب وہ چڑھائی چڑھ رہی ہو	a. مناسب مقام دیکھ کر رُک جائے اور گاڑی کے چڑھنے کے بعد چڑھے b. تیزی سے اگلی گاڑی کو اوورٹیک کر لے c. آہستہ چڑھے d. تعاقب کرے اور چڑھے	a
377.	بارش کے دنوں میں ڈرائیور لازمی طور پر بریک لگانے کا فاصلہ ایمرجنسی بریک لگا کر بڑھائے گا جیسا کہ خشک سڑک پر بریک لگانے کا فاصلہ ہے	a. غلط b. درست c. مجھے پتہ نہیں d. ان میں سے کوئی نہیں	a
378.	دھند والے دنوں میں ڈرائیور کو چاہئے کہ وہ باقاعدگی سے فوگ لائٹس اور فُل لائٹس آن رکھے	a. غلط b. درست c. مجھے پتہ نہیں d. ان میں سے کوئی نہیں	a
379.	دُھند کے دنوں میں ڈرائیور کو چاہئے کہ کم سے کم بارن کا استعمال کرے اور اگر ہو سکے تو بالکل بھی استعمال نہ کرے	a. غلط b. درست c. مجھے پتہ نہیں d. ان میں سے کوئی نہیں	a
380.	تیز بارش کے دوران ڈرائیونگ کرتے ہوئے ڈرائیور کو چاہئے کہ اپنی سپیڈ پر کنٹرول رکھے اور پانی کی پھسلن سے بچے	a. درست b. غلط c. مجھے پتہ نہیں d. ان میں سے کوئی نہیں	a
381.	جیسے ہی تیز دھند میں نظر آنا کم ہو جاتا ہے، فُل لائٹس آن کرنے سے دیکھنے میں اضافہ ہو جاتا ہے	a. غلط b. درست c. مجھے پتہ نہیں d. ان میں سے کوئی نہیں	a
382.	برف سے ڈھکے ہوئے روڈ پر ڈرائیور لازماً سپیڈ کم رکھے اور محفوظ فاصلے میں اضافہ کرے	a. درست b. غلط c. مجھے پتہ نہیں d. ان میں سے کوئی نہیں	a
383.	برفیاری کے دنوں میں ڈرائیونگ کرتے ہوئے ڈرائیور کو چاہئے کہ وہ اگلی گاڑی کے نشانوں پر چلے۔	a. درست b. غلط c. مجھے پتہ نہیں d. ان میں سے کوئی نہیں	a
384.	دُھند کے دنوں میں ڈرائیونگ کرتے ہوئے ڈرائیور کو چاہئے کہ بارن کا زیادہ سے زیادہ استعمال کریں تاکہ مخالف سمت سے آنے والی گاڑیوں کو باخبر کرے	a. درست b. غلط c. مجھے پتہ نہیں d. ان میں سے کوئی نہیں	a
385.	دُھند میں جب مخالف سمت سے آنے والی گاڑی بارن دے تو ڈرائیور کو چاہئے کہ وہ بھی بارن کا جواب دے	a. درست b. غلط	a

		c. مجھے پتہ نہیں d. ان میں سے کوئی نہیں	
386.	برف سے ڈھکے ہوئے روڈ پر ڈرائیور لازماً سپیڈ کم رکھے اور محفوظ فاصلے میں کمی کرے	a. غلط b. درست c. مجھے پتہ نہیں d. ان میں سے کوئی نہیں	a
387.	جب گاڑی پانی میں سے گزر رہی ہو تو اسکی بریک کی کارکردگی میں تبدیلی نہیں آتی	a. غلط b. درست c. مجھے پتہ نہیں d. ان میں سے کوئی نہیں	a
388.	پچھلے ٹائر کے پھٹنے پر ڈرائیور ہمیشہ پرسکون رہے اور کوشش کرے کہ گاڑی سیدھی چلے اور رفتار کم کرتے ہوئے رُک جائے	a. تیزی کے ساتھ سٹیرنگ کو گھومائے b. دونوں ہاتھوں سے مضبوطی سے سٹیرنگ کو پکڑ رکھے c. تیزی کے ساتھ سٹیرنگ کو مخالف سمت میں گھومائے d. تیزی کے ساتھ بریک لگائے	b
389.	جب اگلا ٹائر پھٹ جائے تو انتہائی خطرناک ہے اس لئے ڈرائیور کو چاہئے کہ سٹیرنگ کو قابو میں رکھے اور تیزی سے	a. رفتار کم کرے b. یکدم گئیر کم کرے c. بریک لگائے اور گاڑی روکے d. ان میں سے کوئی نہیں	b
390.	ٹائر کے اچانک پھٹنے سے خطرے کو ناپتے ہوئے	a. فوراً بریک لگائے اور رفتار کم کرے b. مضبوطی سے سٹیرنگ کو پکڑے رکھے اور جہاں تک ممکن ہو آرام سے گاڑی کو روکے c. مضبوطی سے سٹیرنگ کو پکڑے رکھے تاکہ گاڑی کی سمت درست ہو d. آہستہ جائے اور ٹائر تبدیلی کے لیے جگہ ڈھونڈے	b
391.	ٹائر کے اچانک روڈ پر پھٹنے سے یہ غلط اندازہ ہے کہ	a. سکون سے رہے اور آرام سے ایکسلیٹر پیڈل کو چھوڑے b. مضبوطی سے سٹیرنگ کو پکڑے اور گاڑی کا سیدھا جانا یقینی بنائے c. گاڑی کو کم سے کم فاصلے پر رکنے کے لیے ایمرجنسی بریک استعمال کرے d. گاڑی کے رکنے کے بعد بریک پیڈل دوبارہ دبائے	c
392.	جب ٹائر میں ہوا کا دباؤ کم ہو تو تیز رفتاری سے اسکی شکل تبدیل ہو سکتی ہے اور اسکا درجہ حرارت بھی بڑھ جاتا ہے جو سبب بنتا ہے	a. ٹائر کے دباؤ کلتذبذب b. حتیٰ کہ کم دباؤ c. گاڑی کی مزاحمت میں اضافہ کرتی ہے d. ٹائر پھٹنے کا	d
393.	جب ڈرائیور کو معلوم ہو جائے کہ گاڑی کا ٹائر پنکچر ہے تو وہ تیزی سے بریک لگائے اور رفتار کم کر کے گاڑی کو کیرج وے پر لا کر روڈ کے ساتھ محفوظ جگہ کھڑی کرے	a. غلط b. درست c. مجھے پتہ نہیں d. ان میں سے کوئی نہیں	a
394.	جب گاڑی کا ٹائر روڈ پر پھٹ جائے خاص طور پر ایکسپریس وے پر تو ڈرائیور سٹیرنگ کو از خود غصے سے گھومائے	a. غلط b. درست c. مجھے پتہ نہیں d. ان میں سے کوئی نہیں	a

395.	جب ایک چلتی ہوئی گاڑی کو ایمر جنسی کا سامنا ہو جائے تو ڈرائیور پہلے اس سے بچنے کی کوشش کرے اور بعد میں بریک لگائے	a. درست b. غلط c. مجھے پتہ نہیں d. ان میں سے کوئی نہیں	a
396.	جب گاڑی کے اگلے ٹائر بریک لگانے کی وجہ سے جام ہو جائیں تو ڈرائیور گاڑی کی سمت تبدیل نہیں کر سکتا۔	a. درست b. غلط c. مجھے پتہ نہیں d. ان میں سے کوئی نہیں	a
397.	اگلے ٹائر پھٹنے سے گاڑی کی سمت تبدیل ہو تی ہے اس سے بچنے کے لیے ڈرائیور سٹیرنگ قابو میں رکھے تاکہ گاڑی سیدھی سمت میں جائے	a. درست b. غلط c. مجھے پتہ نہیں d. ان میں سے کوئی نہیں	a
398.	جب ڈرائیور محسوس کرے کہ ٹائر پھٹ چکا ہے تو اُسکو گاڑی پر کنٹرول ہونا چاہئے تاکہ اُسکا رخ تبدیل نہ ہو اور ایمرجنسی بریک استعمال کر کے گاڑی کو روک لے	a. غلط b. درست c. مجھے پتہ نہیں d. ان میں سے کوئی نہیں	a
399.	جب ڈرائیور کو معلوم ہو جائے کہ گاڑی کا سٹیرنگ سخت ہو چکا ہے تو اُسکا غلط اندازہ ہے کہ	a. رفتار کو کم کرے اور گاڑی کو جتنی جلدی ہو سکے روک لے b. کسی محفوظ جگہ پر روک لے c. ڈرائیونگ کو جاری رکھے d. وجہ معلوم کریں	c
400.	جب سٹیرنگ کام کرنا چھوڑ دے تو ڈرائیور کو چاہئے کہ وہ گاڑی کو آہستہ کرے اور جتنی جلدی ہو سکے اُسکو روکے اور	a. دانشمندی سے بریک پیڈل کو دبائے b. ہینڈ بریک کو کھینچے c. سپیڈ کم کرنے کے لئے فوراً گئیر کم کرے d. مسلسل بریک کو دبائے اور چھوڑے	c
401.	جب تیزی سے رواں گاڑی کا سٹیرنگ کام کرنا چھوڑ دے تو ایمرجنسی بریک لگانے سے موجب بن سکتی ہے۔۔۔	a. کھسک جانے کا b. الٹ جانے کا c. اگلے حصے کی گردش ہے d. ٹائر پھٹ جانے کا	b
402.	اچانک سٹیرنگ کے کام چھوڑنے سے ڈرائیور ایمرجنسی بریک استعمال نہ کرے اگر گاڑی اور روڈ کی حالت اجازت دے اور گاڑی سیدھی جائے گی	a. درست b. غلط c. مجھے پتہ نہیں d. ان میں سے کوئی نہیں	a
403.	جب تیزی سے رواں گاڑی کا سٹیرنگ کام کرنا چھوڑ دے تو ایمرجنسی بریک لگانے سے الٹ جانے کا موجب بن سکتی ہے	a. درست b. غلط c. مجھے پتہ نہیں d. ان میں سے کوئی نہیں	a
404.	وہ روڈ جس پر گاڑی کے پہیوں کو بریک لگانے سے آسانی سے رُک سکتی ہے	a. بجری کی روڈ b. مٹی کی روڈ c. روڈ جس پر برف پڑا ہو d. ریت کی روڈ	a
405.	جب گاڑی کی بریک کام کرنا چھوڑ دے تو ڈرائیور کو چاہئے کہ پُر سکون رہے اور مضبوطی سے سٹیرنگ کو پکڑ رکھے۔۔۔ تاکہ رفتار کم ہو	a. مسلسل بریک پیڈل دبائے رکھے b. فوراً کلیچ پیڈل کو دبائے رکھے c. مجھے معلوم نہیں	a

		d. ان میں سے کوئی نہیں	
406.	جب گاڑی کی پہاڑی سڑک سے اترتے ہوئے بریک کام کرنا چھوڑ دے تو ڈرائیور کو چاہئے کہ	a. گاڑی کا پہاڑی کے اوپر طرف رُخ کرے b. گاڑی کی ہڈی کو استعمال کرتے ہوئے روڈ کیساتھ چٹان یا درختوں کے ساتھ ٹکرانے c. گاڑی کو روکنے کے لیے ایمرجنسی لین استعمال کرے d. ہیڈ بریک کھینچے اور گیئر کو 2 درجے کم کرے	b
407.	جب گاڑی کی بریک کام کرنا چھوڑ دے تو ڈرائیور کو چاہئے کہ لوگوں کو بچانے اور پھر رکاوٹوں سے گاڑی کو ٹکرا دے۔	a. درست b. غلط c. مجھے پتہ نہیں d. ان میں سے کوئی نہیں	a
408.	اگر اگلے پہیے بلاک ہو جائیں تو اسٹیرنگ گھمانا ناممکن ہو جاتا ہے۔	a. درست b. غلط c. مجھے پتہ نہیں d. ان میں سے کوئی نہیں	a
409.	جب گاڑی کی بریک کام کرنا چھوڑ دے تو ڈرائیور کا پہلا کام یہ ہے کہ رفتار کم کرنے سے پہلے گاڑی کے رُخ پر قابو رکھے	a. درست b. غلط c. مجھے پتہ نہیں d. ان میں سے کوئی نہیں	a
410.	جب اُترائی پر اچانک گاڑی کی بریک کام کرنا چھوڑ دے اور ڈرائیور کے پاس کوئی متبادل ذریعہ نا ہو تو اگلے ہمپر کو پہاڑی کیساتھ مضبوطی کیساتھ ٹکرا دے	a. درست b. غلط c. مجھے پتہ نہیں d. ان میں سے کوئی نہیں	a
411.	وہ روڈ جس کی سطح پر عموماً پھسلن ہو سکتی ہے	a. گندی بگری کی روڈ b. ایک روڈ جس پر بارش ہو c. گیلی بگری کی روڈ d. تیز بارش میں روڈ	b
412.	جب گاڑی زیادہ رفتار میں ہو تو وہ آسانی کیساتھ روڈ سے کھسک جاتی ہے	a. درست b. غلط c. مجھے پتہ نہیں d. ان میں سے کوئی نہیں	a
413.	مٹی یا پھسلن والی روڈ پر ایمرجنسی بریک لگانے سے گاڑی آسانی سے کھسک جاتی ہے حتیٰ کہ الٹ، گریا دوسری گاڑیوں کیساتھ ٹکرا سکتی ہے	a. درست b. غلط c. مجھے پتہ نہیں d. ان میں سے کوئی نہیں	a
414.	مٹی یا پھسلن والی روڈ پر تیزی کیساتھ گاڑی موڑنے سے گاڑی آسانی سے گھمانے میں ناکامی ہو جاتی ہے حتیٰ کہ الٹ، گر، دوسری گاڑیوں کیساتھ یا پیڈل اشخاص کیساتھ ٹکر اسکتی ہے	a. درست b. غلط c. مجھے پتہ نہیں d. ان میں سے کوئی نہیں	a
415.	جب گاڑی روڈ سائیڈ پر کھسک جائے تو ڈرائیور کو چاہئے کہ اسٹیرنگ کو کھسکا کے مخالف سمت میں گھمائے	a. غلط b. درست c. مجھے پتہ نہیں d. ان میں سے کوئی نہیں	a
416.	جب معلوم ہو کہ لوگ یا جانور ایکسپریس وے سے گزر رہے ہیں تو ڈرائیور کو چاہئے کہ	a. فوراً ایمرجنسی بریک لگائے	c

		<p>b. فوراً دائیں طرف کو ٹال دے</p> <p>c. کم از کم اموات کا فیصلہ</p> <p>d. فوراً بائیں طرف کو ٹال دے</p>	
417.	جب ایکسپریس وے پر تیز بارش میں ڈرائیونگ کر رہے ہو تو	<p>a. رفتار کم کرے</p> <p>b. رفتار بڑھا دیں</p> <p>c. آلات نصب کریں</p> <p>d. ٹائر میں ہوا زیادہ رکھیں</p>	a
418.	جب گاڑی کو ایمرجنسی میں ایکسپریس وے پر رکنا پڑے تو ڈرائیور اور مسافروں کو چاہئے کہ	<p>a. روڈ کے ساتھ گاڑی کے اگلے دائیں طرف کھڑے ہو جائیں</p> <p>b. گاڑی سے اترنے یا اردگرد گھومنے سے پرہیز کریں</p> <p>c. ہارڈسولڈر کے ساتھ یا ایمرجنسی پٹی پر کھڑے ہو جائیں</p> <p>d. تیزی سے روڈ کی طرف جائیں اور گاڑی کے پچھلے دائیں طرف کھڑے ہو جائیں</p>	b
419.	جب گاڑی کسی مسئلہ کی وجہ سے ایکسپریس وے کے کیرج وے سے جانے کے قابل نہ ہو تو ڈرائیور کا غلط اندازہ ہے کہ	<p>a. فوراً ڈبل انڈیکٹر آن کرے</p> <p>b. ڈرائیور اور سواریاں گاڑی میں ہی رہیں</p> <p>c. پارکنگ لائٹس وپچھلے لائٹس آن رکھے</p> <p>d. ان میں سے کوئی نہیں</p>	b
420.	جب ایکسپریس وے پر حالات درست نہ ہو تو ڈرائیور کو چاہئے کہ	<p>a. ڈھلوان میں</p> <p>b. سٹت رو میں</p> <p>c. تیز رو میں</p> <p>d. سروس ایریا میں</p>	d
421.	ایکسپریس وے پر تیزی سے گاڑی موڑنے پر کشش ثقل کیوجہ سے گاڑی ایک طرف کھسک جائے، الٹ جانے کا سبب بن سکتی ہے	<p>a. درست</p> <p>b. غلط</p> <p>c. مجھے پتہ نہیں</p> <p>d. ان میں سے کوئی نہیں</p>	a
422.	بارش میں ایکسپریس وے پر ٹائروں اور سڑک کے درمیان رگڑ کم ہو جاتی ہے جس کی وجہ سے روڈ کی سطح پھسلنے کی وجہ بن سکتی ہے	<p>a. درست</p> <p>b. غلط</p> <p>c. مجھے پتہ نہیں</p> <p>d. ان میں سے کوئی نہیں</p>	a
423.	گاڑی بارش میں ایکسپریس وے پر جا رہی ہو تو اس کی رفتار زیادہ ہونی چاہئے	<p>a. غلط</p> <p>b. درست</p> <p>c. مجھے پتہ نہیں</p> <p>d. ان میں سے کوئی نہیں</p>	a
424.	تیز بارش کے دوران ڈرائیونگ کرتے ہوئے ڈرائیور کو چاہئے کہ اپنی رفتار عموماً کم رکھے	<p>a. درست</p> <p>b. غلط</p> <p>c. مجھے پتہ نہیں</p> <p>d. ان میں سے کوئی نہیں</p>	a
425.	گاڑی بارش میں ایکسپریس وے پر جا رہی ہو اور اسکو غیر ارادی طور پر رکنا پڑے تو ڈرائیور کیرج وے پر گاڑی روک سکتا ہے	<p>a. غلط</p> <p>b. درست</p> <p>c. مجھے پتہ نہیں</p> <p>d. ان میں سے کوئی نہیں</p>	a
426.	بارش کے دنوں میں ڈرائیور لازمی طور پر بریک لگانے کا فاصلہ ایمرجنسی بریک لگا کر بڑھائے گا جیسا کہ خشک سڑک پر ہوتا ہے	<p>a. غلط</p>	a

		<p>b. دُرست</p> <p>c. مجھے پتہ نہیں</p> <p>d. ان میں سے کوئی نہیں</p>	
427.	جب گاڑی ایکسپریس وے کے کیرج وے کو کسی خرابی کیوجہ سے چھوڑنے کے قابل نہ ہو تو ڈرائیور ایمرجنسی میں گاڑی کی مرمت کر سکتا ہے	<p>a. غلط</p> <p>b. دُرست</p> <p>c. مجھے پتہ نہیں</p> <p>d. ان میں سے کوئی نہیں</p>	a
428.	جب تک گاڑی کسی رُکاوٹ یا فنی خرابی کیوجہ سے ایکسپریس وے پر کھڑی نہ ہو تو سواروں کو چڑھانا یا اُتارنا یا سامان کو لادنے یا اُتارنے کی اجازت نہ ہے	<p>a. دُرست</p> <p>b. غلط</p> <p>c. مجھے پتہ نہیں</p> <p>d. ان میں سے کوئی نہیں</p>	a
429.	وہ لمحہ جس میں گاڑی حادثاتی طور پر ایکسپریس وے کے حفاظتی دیوار سے ٹکرا جائے تو ڈرائیور تیزی کیساتھ سٹیرنگ مخالف سمت میں گھومائے	<p>a. غلط</p> <p>b. دُرست</p> <p>c. مجھے پتہ نہیں</p> <p>d. ان میں سے کوئی نہیں</p>	a
430.	جب گاڑی کو سرنگ کے اختتام پر ہوا کے دباؤ کی وجہ سے مڑنا پڑے تو ڈرائیور کو چاہئے کہ مضبوطی سے سٹیرنگ کو پکڑے	<p>a. غلط</p> <p>b. دُرست</p> <p>c. مجھے پتہ نہیں</p> <p>d. ان میں سے کوئی نہیں</p>	b
431.	برف سے ڈھکے ہوئے روڈ پر ڈرائیور لازماً سپیڈ کم رکھے اور محفوظ فاصلے میں اضافہ کرے	<p>a. غلط</p> <p>b. دُرست</p> <p>c. مجھے پتہ نہیں</p> <p>d. ان میں سے کوئی نہیں</p>	b
432.	جب کسی ایمرجنسی سے بچنا ہو تو ڈرائیور کو چاہئے کہ پُر سکون رہے اور اُس اصول کو مد نظر رکھے	<p>a. پہلے لوگوں کو بچائے اور بعد میں سامان کو</p> <p>b. گاڑیوں کو پہلے بچائے اور سامان کو بعد میں</p> <p>c. گاڑیوں کو پہلے بچائے اور لوگوں کو بعد میں</p> <p>d. سامان کو پہلے بچائے اور لوگوں کو بعد میں</p>	a
433.	جب تیز رفتار گاڑی سامنے سے آنے والی گاڑی سے ٹکرانے والی ہو تو ڈرائیور کو چاہئے کہ	<p>a. بریک لگا کر رفتار کم کریں اور بعد میں سٹیرنگ گھمائے تاکہ بچے</p> <p>b. اچانک مڑے تاکہ بچے</p> <p>c. پہلے بچنے کے لئے مڑے اور بعد میں بریک لگا کر رفتار کم کرے</p> <p>d. بریک لگا کر رفتار کم کرے اور ساتھ ہی ساتھ گاڑی گھمائے تاکہ بچا جا سکے</p>	d
434.	جب تیز رفتار گاڑی کو کسی حادثہ کا سامنا ہو تو ڈرائیور کو چاہئے کہ بچنے کے لئے مڑے اور بعد میں آہستہ ہو جائے تاکہ نقصان سے بچا جا سکے	<p>a. غلط</p> <p>b. دُرست</p> <p>c. مجھے پتہ نہیں</p> <p>d. ان میں سے کوئی نہیں</p>	a
435.	جب گاڑی کا اگلا پہیہ جام ہو جائے تو ڈرائیور سٹیرنگ گھمانے سے گاڑی کی سمت تبدیل نہیں کر سکتا	<p>a. دُرست</p> <p>b. غلط</p> <p>c. مجھے پتہ نہیں</p> <p>d. ان میں سے کوئی نہیں</p>	a
436.	جب انجن کولنٹ گردش کے قابل نہ ہو تو انجن	<p>a. تیل کم خرچ کرتا ہے</p> <p>b. بہت زیادہ ٹھنڈا ہو جاتا ہے</p>	d

		c. اسی مقدار میں تیل خرچ کرتا ہے d. بہت زیادہ گرم ہو جاتا ہے	
437.	روڈ پر ڈرائیونگ سے پہلے ڈرائیور کا سیٹ بیلٹ استعمال کرنے کا مقصد یہ ہے کہ	a. انتظامیہ کے جُرماتے سے بچنے سے b. بیٹھنے والی جگہ پر بیٹھا رہنے کے لیے c. کمر کو کرسی کیساتھ باندھنے کے لئے d. کسی ایمرجنسی یا ٹکراؤ کی صورت میں اپنی جسم کو بچانے کے لئے	d
438.	جب روڈ پر گاڑی میں حفاظتی بیگ موجود ہو ں تو اگلی سیٹ پر موجود مسافر	a. سیٹ بیلٹ باندھیں b. ضروری نہیں کہ باندھیں c. باندھیں یا نہ ہی باندھیں d. اپنے ہاتھوں سے سیٹ بیلٹ باندھیں	a
439.	ایمرجنسی ڈیوٹی پر مامور پولیس گاڑی کو چھوٹی موٹر گاڑی اور ٹیک کر سکتی ہے	a. غلط b. درست c. مجھے پتہ نہیں d. ان میں سے کوئی نہیں	a
440.	چوک میں موٹر گاڑی کو اوٹیک کرنے کی اجازت نہیں ہے	a. غلط b. درست c. مجھے پتہ نہیں d. ان میں سے کوئی نہیں	b
441.	موٹر گاڑی کو چوک سے ٹریفک اشارہ کے مطابق گزرنا چاہئے	a. غلط b. درست c. مجھے پتہ نہیں d. ان میں سے کوئی نہیں	b
442.	جب موٹر گاڑی کو عارضی طور پر رُکنا پڑے تو وہ دوسری گاڑیوں یا پیدل اشخاص کاراستہ نہیں رُکے گی	a. درست b. غلط c. مجھے پتہ نہیں d. ان میں سے کوئی نہیں	a